

তৃতীয় দিন

গুণোৎসব, প্রথম পর্যায় - ২০২২

Set-C

শ্রেণি : দ্বিতীয়

(ভাষা ১, ২, গণিত, লিখন ১, ২, সাংখ্যিক দক্ষতা, পঠন ১, ২)

মাধ্যম : বাংলা

Name of the Student :

Roll No. : Class :



Name of the School :

শিক্ষকদের জন্য নির্দেশনা

- প্রশ্ন নং 1 থেকে 30 পর্যন্ত শিক্ষক প্রশ্নগুলি শিক্ষার্থীদের পড়ে শোনাবেন এবং শুদ্ধ বিকল্পটিতে (✓) চিহ্ন দিতে বলবেন। পরবর্তীতে শিক্ষক শিক্ষার্থীদের দ্বারা প্রদত্ত (✓) চিহ্ন অনুসারে বাহ্যিক মূল্যায়কের উপস্থিতিতে শিক্ষক OMR পত্রের গোল চিহ্নগুলি কালো কালি দিয়ে পূর্ণ করবেন।
- প্রশ্ন নং 31 থেকে 33 (d) পর্যন্ত প্রশ্নের উত্তরগুলি প্রশ্নপত্রের নির্দিষ্ট স্থানে ছাত্র-ছাত্রীদের লিখতে দেবেন। শিক্ষক শিক্ষার্থীদের উত্তরগুলো পরীক্ষা করবেন এবং নম্বর বাহ্যিক মূল্যায়কের উপস্থিতিতে OMR পত্র পূরণ করবেন।
- প্রশ্ন নং 34 এর যে কোনো একটি অংশ এবং 35 এর যে কোনো একটি অংশ শিক্ষার্থীদের পড়তে দেবেন। শিক্ষক বহিমূল্যায়কের উপস্থিতিতে মূল্যায়ন নির্দেশাবলী অনুযায়ী শিক্ষার্থীদের পঠনের নম্বর প্রদান করবেন। মূল্যায়ন নির্দেশাবলিতে প্রদত্ত প্রপত্র অনুসারে ছাত্র-ছাত্রীদের সংখ্যা অনুযায়ী প্রপত্র প্রস্তুত করে নম্বরগুলি তুলে রাখবেন এবং পরবর্তীকালে সেই অনুযায়ী গোল চিহ্নগুলি OMR sheet এ পূরণ করবেন। অথবা পঠনের নম্বরগুলি সরাসরি (OMR পত্রে অন্তর্ভুক্ত) করতে পারবেন।
- শিক্ষার্থীদের নাম, ক্রমিক নং, শ্রেণি, বিদ্যালয়ের নাম সংক্রান্ত যাবতীয় তথ্য শিক্ষার্থী পূরণ করবেন।

Language-1

1. নীচের কোনটি রিক্সার ছবি ?



2. ছবিটি বুঝাতে কোন শব্দটি বলবে ?

(A) দালান

(B) কুটির



3. নীচের খালি জায়গায় কোন বর্ণ বসালে অর্থপূর্ণ শব্দ হবে?

টু ___ রি

(A) ল

(B) ক

4. নীচের কোন শব্দে 'প্ত'- কার যোগ হয়েছে?

(A) রপ্ত

(B) পোকা

5. 'মিলি' শব্দটির শেষ বর্ণের মিল থাকা শব্দ কোনটি?

(A) জুলি

(B) চলো

6. নীচের কোন শব্দে যুক্তবর্ণ আছে?

(A) ডাক্তার

(B) ডালিম

7. নীচের কোন শব্দটিতে ক + ম যুক্ত হয়েছে ?

(A) জন্তু

(B) রুক্মিণী

8. 'র'+ 'ষ' এক সঙ্গে লিখলে কোন যুক্তবর্ণ হবে?

(A) র্ষ

(B) র্য

9. 'ল্ল'— যুক্তবর্ণে কি কি বর্ণ যোগ হয়েছে?

(A) ল+ল

(B) ল+ম

10. নীচের কোন বাক্সে স্বরবর্ণ ও স্বরচিহ্ন শুদ্ধভাবে দেওয়া আছে ?

A
ও = ঠে
ঋ = <
এ = ে
ঔ = ঠে

B
ও = ঠে
ঋ = <
এ = ঠে
ঔ = ে

Language-2

11. Which of the following is the picture of a 'ROSE'?



(A) (1)

(B) (2)



12. Which of the following is the picture of a 'TIGER'?



(A) (1)

(B) (2)


13. Which of the following is the letter 'K'?



(A) (1)

(B) (2)

14. Which of the following is the letter 'N'?



(A) (1)

(B) (2)



15. Which of the following is a correct match ?



(A) (1)

(B) (2)

16. Which of the following is a correct match ?



(A) (1)

(B) (2)

17. Which object in the picture begins with the letter 'P'?



(A) (1)

(B) (2)

18. Which object in the picture begins with the letter 'B' ?



(A) (1)

(B) (2)

19. Choose the correct letter and fill in the blank.



(A) V

(B) M

20. Choose the correct letter and fill in the blank.



(A) W

(B) M

তৃতীয় দিন

গুণোৎসব, প্রথম পর্যায় - ২০২২

Set-C

শ্রেণি : দ্বিতীয়

(ভাষা ১, ২, গণিত, লিখন ১, ২, সাংখ্যিক দক্ষতা, পঠন ১, ২)

মাধ্যম : বাংলা

Mathematics

21.

আগের	মধ্যের	পরের
১৫		১৭

মধ্যের সংখ্যাটি কত?

(ক) ১৬

(খ) ১৪

22.

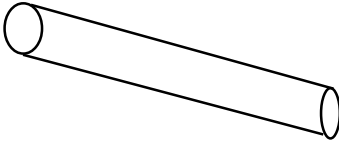
৩৩	৩ দশ ৩
৩৪	৩ দশ ৪
৩৫	
৩৬	৩ দশ ৬

খালি ঘরটিতে আমরা কি লিখব?

(ক) ৩ দশ ৩

(খ) ৩ দশ ৫

23.



এই আকৃতিটির নাম কি?

(ক) শংকু

(খ) চোঙা

24.

৫ দশ ১	৫১
৫ দশ ২	
৫ দশ ৩	৫৩
৫ দশ ৪	৫৪

খালি ঘরে কোন সংখ্যাটি বসবে?

(ক) ২৫

(খ) ৫২

25.

২	৪		৮	১০
---	---	--	---	----

ছেড়ে দেওয়া সংখ্যাটি কত?

(ক) ৫

(খ) ৬

তৃতীয় দিন

গুণোৎসব, প্রথম পর্যায় - ২০২২

Set-C

শ্রেণি : দ্বিতীয়

(ভাষা ১, ২, গণিত, লিখন ১, ২, সাংখ্যিক দক্ষতা, পঠন ১, ২)

মাধ্যম : বাংলা

26.

দশক	একক
৪	৮
৪	১
	৯

দশকের ঘরের যোগফল কত হবে?

(ক) ৪

(খ) ৮

27.

দশক	একক
২	৫
১	২
১	

খালি ঘরে সংখ্যাটি কত হবে?

(ক) ১

(খ) ৩

28.



বল

৩০ টাকা



ঘুড়ি


২০ টাকা

বল ও ঘুড়ি একসঙ্গে কিনলে কত টাকা লাগবে?

(ক) ৩০ টাকা

(খ) ৫০ টাকা

29.



ঘরটিতে কয়টি ত্রিকোণ আকৃতি আছে?

(ক) ১ টা

(খ) ২ টা

30. তোমার হাতে ছিল ১৫ টি কুল। ভাইকে দিলে ৪ টি কুল। এখন তোমার হাতে কয়টি কুল রইল?

ঘরটিতে কয়টি ত্রিকোণ আকৃতি আছে?

(ক) ১১ টি

(খ) ১৯ টি

তৃতীয় দিন

শুগোৎসব, প্রথম পর্যায় - ২০২২

Set-C


শ্রেণি : দ্বিতীয়

(ভাষা ১, ২, গণিত, লিখন ১, ২, সাংখ্যিক দক্ষতা, পঠন ১, ২)

মাধ্যম : বাংলা

Writing - L1

31. নীচের ছবিগুলির যেকোন একটি দিয়ে তিনটি বাক্য লিখ।



উত্তর -

Writing - L2

32. Write the name of the objects given in the pictures.



Ans :

Numeracy

33. (a) অক্ষরে লেখা সংখ্যাটি দশক ও একক হিসাবে লেখো।

উনচল্লিশ

দশক	একক

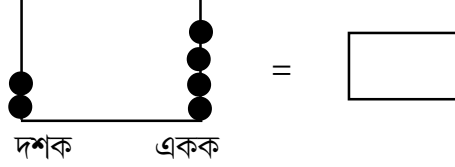
(b) যোগ করো —

দশক	একক
৯	৩
+	৬

(c) বিয়োগ করো —

দশক	একক
৬	৪
৪	৬
-	

(d) নীচে মণিশলাকার মণি গণনা করে শুদ্ধ সংখ্যাটি পাশের বাক্সে লিখ।



Reading - L1

নির্দেশনা : ছাত্রছাত্রীদের ইচ্ছানুসারে যেকোন একটি অংশ পড়তে দেবেন।

34.

প্রথম অংশ	মন	
		তনয়
	বাগানে প্রজাপতি উড়ছে।	
দ্বিতীয় অংশ	বাণ	
		নাগরিক
	নদীতে বাণ এসেছে।	
তৃতীয় অংশ	হরণ	
		নিটোল
	আকাশে পাখি উড়ছে।	

Reading - L2

35.

Frame 1	DAY	SUN	ROCK
Frame 2	RAY	CUP	COCK
Frame 3	BUS	SON	FOOD