

দ্বিতীয় দিন

গুণোৎসব প্রথম পর্যায় - ২০২২

Set-B

শ্রেণি : দ্বিতীয়

(ভাষা ১, ২, গণিত, লিখন ১, ২, সাংখ্যিক দক্ষতা, পঠন ১, ২)

মাধ্যম : বাংলা

Name of the Student :

Roll No. : Class :

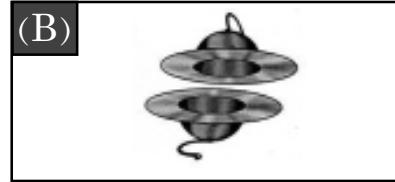
Name of the School :

শিক্ষকদের জন্য নির্দেশনা

- প্রশ্ন নং 1 থেকে 30 পর্যন্ত শিক্ষক প্রশ্নগুলি শিক্ষার্থীদের পড়ে শোনাবেন এবং শুদ্ধ বিকল্পটিতে (✓) চিহ্ন দিতে বলবেন। পরবর্তীতে শিক্ষক শিক্ষার্থীদের দ্বারা প্রদত্ত (✓) চিহ্ন অনুসারে বাহ্যিক মূল্যায়কের উপস্থিতিতে শিক্ষক OMR পত্রের গোল চিহ্নগুলি কালো কালি দিয়ে পূর্ণ করবেন।
- প্রশ্ন নং 31 থেকে 33 (d) পর্যন্ত প্রশ্নের উত্তরগুলি প্রশ্নপত্রের নির্দিষ্ট স্থানে ছাত্র-ছাত্রীদের লিখতে দেবেন। শিক্ষক শিক্ষার্থীদের উত্তরগুলো পরীক্ষা করবেন এবং নম্বর বাহ্যিক মূল্যায়কের উপস্থিতিতে OMR পত্র পূরণ করবেন।
- প্রশ্ন নং 34 এর যে কোনো একটি অংশ এবং 35 এর যে কোনো একটি অংশ শিক্ষার্থীদের পড়তে দেবেন। শিক্ষক বহিমূল্যায়কের উপস্থিতিতে মূল্যায়ন নির্দেশাবলী অনুযায়ী শিক্ষার্থীদের পঠনের নম্বর প্রদান করবেন। মূল্যায়ন নির্দেশাবলিতে প্রদত্ত প্রপত্র অনুসারে ছাত্র-ছাত্রীদের সংখ্যা অনুযায়ী প্রপত্র প্রস্তুত করে নম্বরগুলি তুলে রাখবেন এবং পরবর্তীকালে সেই অনুযায়ী গোল চিহ্নগুলি OMR sheet এ পূরণ করবেন। অথবা পঠনের নম্বরগুলি সরাসরি (OMR পত্রে অন্তর্ভুক্ত) করতে পারবেন।
- শিক্ষার্থীদের নাম, ক্রমিক নং, শ্রেণি, বিদ্যালয়ের নাম সংক্রান্ত যাবতীয় তথ্য শিক্ষার্থী পূরণ করবেন।

Language-1

1. নীচের কোনটি খোল-এর ছবি ?



2. ছবিতে দেখানো শব্দটি কোনটি হবে ?

(A) বন্ধু

(B) বুদ্ধ



দ্বিতীয় দিন

গুণোৎসব, প্রথম পর্যায় - ২০২২

Set-B

শ্রেণি : দ্বিতীয়

(ভাষা ১, ২, গণিত, লিখন ১, ২, সাংখ্যিক দক্ষতা, পঠন ১, ২)

মাধ্যম : বাংলা

3. নীচের খালি জায়গায় কোন বর্ণ বসালে অর্থপূর্ণ শব্দ হবে?

___ শাল

(A) ত

(B) ম

4. নীচের কোন শব্দে 'ঔ'- কার যোগ হয়েছে?

(A) নৌকা

(B) ভৈরব

5. 'তারা' শব্দের সঙ্গে শেষ বর্ণের মিল থাকা শব্দ কোনটি?

(A) পারা

(B) তাগা

6. নীচের কোন শব্দে যুক্তবর্ণ রয়েছে?

(A) আরম্ভ

(B) শুরু

7. নীচের কোন শব্দে ন + দ যুক্ত হয়েছে ?

(A) সিদ্ধ

(B) ছন্দ

8. 'র + প' একসঙ্গে যোগ করলে কোনটি হবে ?

(A) প্য

(B) পর্

9. 'ত্ন' যুক্তবর্ণে কোন কোন বর্ণ যোগ হয়েছে?

(A) ত + ন

(B) ত + র

10. নীচের কোন বাক্সটিতে স্বরবর্ণ ও স্বরচিহ্ন শুদ্ধভাবে দেওয়া আছে ?

A
ঐ = ঐ
ঔ = ঔ
ঊ = ঊ
ঋ = ঋ

B
ঐ = ঐ
ঔ = ঔ
ঊ = ঊ
ঋ = ঋ

Language-2

11. Which of the following is the picture of a 'bottle'?



(A) (1)



(B) (2)

12. Which of the following is the picture of a 'pillow'?




(A) (1)




(B) (2)

13. Which of the following is the letter 'C'?




(A) (1)




(B) (2)

14. Which of the following is the letter 'A'?



(A) (1)



(B) (2)

15. Which of the following is a correct match?



GIRAFFE

(A) (1)



GIRAFFE


(B) (2)

16. Which of the following is a correct match ?



PINEAPPLE

(A) (1)



PINEAPPLE

(B) (2)

17. Which object in the picture begins with the letter 'F' ?



(A) (1)



(B) (2)

18. Which object in the picture begins with the letter 'H' ?



(A) (1)



(B) (2)

19. Choose the correct letter and fill in the blank.



(A) I

(B) T

20. Choose the correct letter and fill in the blank.



(A) Z

(B) F

দ্বিতীয় দিন

গুণোৎসব, প্রথম পর্যায় - ২০২২

Set-B

শ্রেণি : দ্বিতীয়

(ভাষা ১, ২, গণিত, লিখন ১, ২, সাংখ্যিক দক্ষতা, পঠন ১, ২)

মাধ্যম : বাংলা

Mathematics

21.



= ১ টি আম



= ৩ টি ফুল



= ৪ টি পাতা

সবচেয়ে বেশী কি আছে?

(ক) পাতা

(খ) আম

22.

২১	একুশ
২২	
২৩	তেইশ
২৪	চব্বিশ

না লেখা সংখ্যাটি বানান করে কিভাবে লিখব?

(ক) বিশ

(খ) বাইশ

23.



এই বাকসটি কি আকৃতির?

(ক) ঘনক

(খ) আয়তীয় ঘনক

24.

৫ দশ ১	৫১
৫ দশ ২	
৫ দশ ৩	৫৩
৫ দশ ৪	৫৪

খালি থাকা বাকসটিতে কোন সংখ্যাটি বসবে?

(ক) ৫০

(খ) ৫২

25.



খালি স্থানে কোন ছবিটি বসবে?



দ্বিতীয় দিন

শুগোৎসব, প্রথম পর্যায় - ২০২২

Set-B

শ্রেণি : দ্বিতীয়

(ভাষা ১, ২, গণিত, লিখন ১, ২, সাংখ্যিক দক্ষতা, পঠন ১, ২)

মাধ্যম : বাংলা

26.

দশক	একক
৪	৩
+	১
৫	৫

খালি জায়গায় যোগফল কোনটি হবে?

(ক) ৮

(খ) ৫

27.

দশক	একক
২	৫
-	১
১	২

খালি বাকসটিতে কোন সংখ্যা বসবে?

(ক) ১

(খ) ৩

28.



বই

পেন্সিল

৫০ টাকা

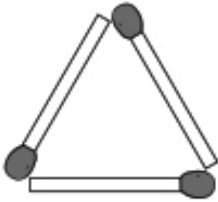
৫ টাকা

বই ও পেন্সিল কিনতে মোট টাকা লাগবে?

(ক) ৫০ টাকা

(খ) ৫৫ টাকা

29.



কাঠি দিয়ে বানানো ত্রিকোণ আকৃতিটির নাম কি?

(ক) ত্রিভুজ

(খ) বৃত্ত

30. গাছের ডালে বসেছিল ৮ টি পাখি এরমধ্যে ৩ টি পাখি উড়ে গেল।

এখন ডালটিতে কয়টি পাখি আছে?

(ক) ৫ টি

(খ) ৩ টি

দ্বিতীয় দিন

গুণোৎসব, প্রথম পর্যায় - ২০২২

Set-B

শ্রেণি : দ্বিতীয়

(ভাষা ১, ২, গণিত, লিখন ১, ২, সাংখ্যিক দক্ষতা, পঠন ১, ২)

মাধ্যম : বাংলা

Writing - L1



31. নীচের ছবিগুলো দেখে যেকোন একটির বিষয়ে তিনটি বাক্য লেখো।



উত্তর -

Writing - L2

32. Write the name of the objects given in the pictures.



Ans :

Numeracy

33. (a) অক্ষরে লেখা নিচের সংখ্যাটি দশক ও একক হিসাবে লেখো।

ছয়ত্রিশ =

দশক	একক

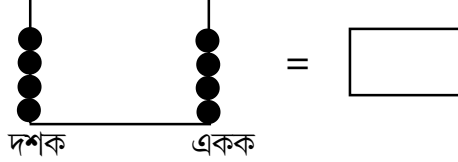
(b) যোগ করো

দশক	একক
৩	০
৫	৮

(c) বিয়োগ করো

দশক	একক
৩	৫
২	৯

(d) নীচের মণিশলাকার মণি গণনা করে শুদ্ধ সংখ্যাটি পাশের বাকসে লিখ।



Reading - L1

নির্দেশনা : ছাত্রছাত্রীদেয় ইচ্ছানুসারে যেকোন একটি অংশ পড়তে দেবেন।

34.

প্রথম অংশ	রণ	
		নরম
	গাছটি খুব উঁচু।	
দ্বিতীয় অংশ	কাণ	
		নয়ন
	আমগাছে মুকুল ধরেছে।	
তৃতীয় অংশ	বয়ন	
		পাঠশালা
	বাগানে ফুল ফুটেছে।	

Reading - L2

35.

Frame 1	HEN	DOG	JEEP
Frame 2	PEN	FOG	DEER
Frame 3	BAT	LEG	HOOK