

দ্বিতীয় দিন

গুণোৎসৱ, প্ৰথম পৰ্যায় - ২০২২

Set-B

শ্ৰেণী : দ্বিতীয় (ভাষা ১, ২, গণিত, লিখন (ভাষা-১, ভাষা-২), সাংখ্যিক দক্ষতা, পঠন (ভাষা-১, ভাষা-২)) মাধ্যম : অসমীয়া

Name of the Student :

Roll No. : Class :

Name of the School :

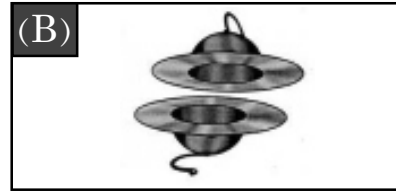

শিক্ষকৰ বাবে নিৰ্দেশনাবলী—

- প্ৰশ্ন নম্বৰ 1 ৰ পৰা 30 লৈ শিক্ষকে ছাত্ৰ-ছাত্ৰীক পঢ়ি শুনাৰ আৰু শুদ্ধ বিকল্পটোত (✓) চিন দিবলৈ ক'ব। পাছত ছাত্ৰ-ছাত্ৰীয়ে (✓) চিন দিয়া অনুসৰি শিক্ষকে বহিঃমূল্যায়কৰ উপস্থিতিত OMR Sheet ৰ বৃত্তসমূহ গাঢ় কৰি পূৰাব।
- প্ৰশ্ন নম্বৰ 31 ৰ পৰা 33 (d) লৈ প্ৰশ্নসমূহৰ উত্তৰ প্ৰশ্নকাকতত দিয়া নিৰ্দিষ্ট ঠাইত ছাত্ৰ-ছাত্ৰীক লিখিবলৈ দিব। শিক্ষকে উত্তৰসমূহ পৰীক্ষা কৰি মূল্যায়ন নিৰ্দেশনা অনুসৰি নম্বৰ দিব আৰু বহিঃমূল্যায়কৰ সন্মুখত OMR চীটত পূৰাব।
- প্ৰশ্ন নম্বৰ 34 ৰ যিকোনো এটা অংশ আৰু 35 ৰ যিকোনো এটা অংশ ছাত্ৰ-ছাত্ৰীক পঢ়িবলৈ দিব। শিক্ষকে বহিঃমূল্যায়কৰ উপস্থিতিত মূল্যায়ন নিৰ্দেশনাবলীত দিয়া আৰ্হিত ছাত্ৰ-ছাত্ৰীক পঠনৰ নম্বৰ প্ৰদান কৰিব। মূল্যায়ন নিৰ্দেশনাবলীত দিয়া প্ৰ-পত্ৰৰ দৰে ছাত্ৰ-ছাত্ৰীৰ সংখ্যা অনুযায়ী প্ৰ-পত্ৰ প্ৰস্তুত কৰি নম্বৰসমূহ টুকি ৰাখিব আৰু পাছত OMR Sheet ত বৃত্তসমূহ গাঢ় কৰি পূৰাব। অথবা শিক্ষকে পঠনৰ নম্বৰসমূহ পোনপটীয়াকৈও OMR Sheet ত অন্তৰ্ভুক্ত কৰিব পাৰিব।
- ছাত্ৰ-ছাত্ৰীৰ নাম, ৰোল নং, শ্ৰেণী, বিদ্যালয়ৰ নামৰ তথ্যসমূহ শিক্ষকে পূৰ কৰিব।

Language-1

তলত দিয়া প্ৰশ্নসমূহৰ শুদ্ধ উত্তৰটো () চিন দিয়া

1. তলত দিয়া কোনটো 'খোলৰ' ছবি ?



2. তলৰ ছবিটো বুজোৱা শব্দ কোনটো ?

(A) বন্ধু

(B) বুদ্ধ



3. তলৰ খালী ঠাইটোত কোনটো আখৰ বহুৱালে অৰ্থপূৰ্ণ শব্দ হ'ব ?

___ জাৰ

(A) ব

(B) ত

4. তলত দিয়া কোনটো শব্দত 'ঔ' কাৰ যোগ হৈ আছে ?

(A) নৌকা

(B) জাকৈ

5. 'তৰা' শব্দটোৰ সৈতে শেষৰ আখৰৰ মিল থকা শব্দ কোনটো ?

(A) নৰা

(B) নগা

6. তলত দিয়া কোনটো শব্দত যুক্তাক্ষৰ আছে ?

(A) আৰম্ভ

(B) আৰাম

7. তলৰ দিয়া কোনটো শব্দত 'দ + ধ' লগ লাগি হোৱা যুক্তাক্ষৰটো আছে ?

(A) সিদ্ধ

(B) ছন্দ

8. 'ৰ+প' লগ লগালে কোনটো যুক্তাক্ষৰ হ'ব ?

(A) প্য

(B) পৰ্

9. 'ত্ন' যুক্তাক্ষৰটো কি কি আখৰ লগ লাগি হৈছে ?

(A) ত+ন

(B) ত+ৰ

10. তলত দিয়া কোনটো বাক্যত স্বৰবৰ্ণ আৰু স্বৰচিহ্ন শুদ্ধকৈ দিয়া আছে ?

A

উ	-	ূ
ই	-	ি
ঊ	-	ু
ঋ	-	ৈ

B

উ	-	ূ
ই	-	ি
ঊ	-	ু
ঋ	-	ৈ

Language-2

11. Which of the following is the picture of a 'bottle'?



(A) (1)



(B) (2)

12. Which of the following is the picture of a 'pillow'?

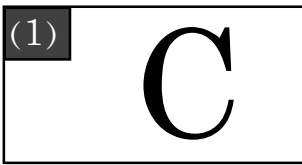


(A) (1)




(B) (2)

13. Which of the following is the letter 'C' ?




(A) (1)



(B) (2)

14. Which of the following is the letter 'A' ?



(A) (1)



(B) (2)

15. Which of the following is a correct match ?



GIRAFFE

(A) (1)



GIRAFFE


(B) (2)

16. Which of the following is a correct match ?



PINEAPPLE

(A) (1)



PINEAPPLE

(B) (2)

17. Which object in the picture begins with the letter 'F' ?



(A) (1)




(B) (2)

18. Which object in the picture begins with the letter 'H' ?



(A) (1)



(B) (2)

19. Choose the correct letter and fill in the blank.



(A) I

(B) T

20. Choose the correct letter and fill in the blank.



(A) Z

(B) F

দ্বিতীয় দিন

গুণোৎসৱ, প্ৰথম পৰ্যায় - ২০২২

Set-B

শ্ৰেণী : দ্বিতীয়

(ভাষা ১, ২, গণিত, লিখন (ভাষা-১, ভাষা-২), সাংখ্যিক দক্ষতা, পঠন (ভাষা-১, ভাষা-২))

মাধ্যম : অসমীয়া

Mathematics

21.



= ১ টা আম



= ৩ পাহ ফুল



= ৪ খিলা পাত

আটাইতকৈ বেছি কি আছে?

(ক) পাত

(খ) আম

22.

২১	একৈশ
২২	
২৩	তেইছ
২৪	চৌব্বিছ

বৈ যোৱা সংখ্যাটো আখৰেৰে কেনেকৈ লিখিম?

(ক) বিছ

(খ) বাইছ

23.



এই বাকচটো কি আকৃতিৰ ?

(ক) ঘনক

(খ) আয়তীয় ঘনক

24.

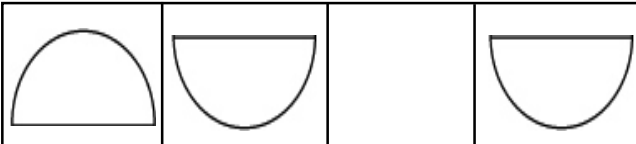
৫ দহ ১	৫১
৫ দহ ২	
৫ দহ ৩	৫৩
৫ দহ ৪	৫৪

খালী ৰোৱা বাকচটোত কোনটো সংখ্যা বহিব?

(ক) ৫০

(খ) ৫২

25.



খালী থকা ঠাইত কোনটো ছবি থাকিব?

(ক)



(খ)



দ্বিতীয় দিন

গুণোৎসৱ, প্ৰথম পৰ্যায় - ২০২২

Set-B

শ্ৰেণী : দ্বিতীয়

(ভাষা ১, ২, গণিত, লিখন (ভাষা-১, ভাষা-২), সাংখ্যিক দক্ষতা, পঠন (ভাষা-১, ভাষা-২))

মাধ্যম : অসমীয়া

26.

	দহক	একক
	৪	৩
+	১	৫
	৫	

খালী থকা ঠাইত কি যোগফল পাম?

(ক) ৮

(খ) ৫

27.

	দহক	একক
	২	৫
-	১	২
	১	

খালী থকা ঘৰটোত কোনটো সংখ্যা বহিব?

(ক) ১

(খ) ৩

28.



কিতাপ

পেঞ্চিল

৫০ টকা

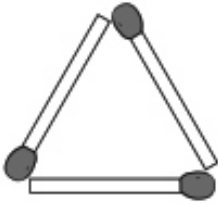
৫ টকা

কিতাপখন আৰু পেঞ্চিলডাল কিনিবলৈ মুঠ কিমান টকা লাগিব?

(ক) ৫০ টকা

(খ) ৫৫ টকা

29.



কাঠিৰে বনোৱা এই তিনিকোণীয়া আকৃতিৰ নাম কি?

(ক) ত্ৰিভুজ

(খ) বৃত্ত

30. গছৰ ডালত আছিল ৮ টা চৰাই।

তাৰে ৩ টা চৰাই উৰি গুচি গ'ল।

এতিয়া ডালত কেইটা চৰাই থাকিল?

(ক) ৫ টা

(খ) ৩ টা

Writing - L1

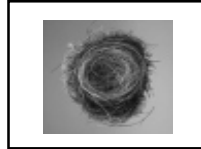
31. তলত দিয়া ছবিকেইখন চোৱা আৰু যিকোনো এখন ছবিৰ বিষয়ে তিনিটা বাক্য লিখা।



উত্তৰ :

Writing - L2

32. Write the name of the objects given in the pictures.



Ans :

Numeracy

33. (a) আখৰেৰে লিখা থকা তলৰ সংখ্যাটো দহ আৰু এক হিচাপে লিখা :

ছয়ত্ৰিশ =

দহ	এক

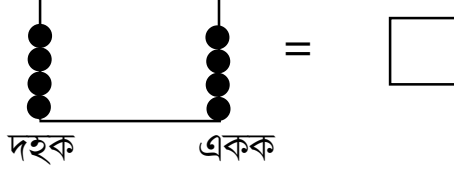
(b) যোগ কৰা :

	দহক	একক
	৩	০
+	৫	৮

(c) বিয়োগ কৰা :

	দহক	একক
	৩	৫
-	২	৯

(d) তলৰ মণিশলাৰ মণিৰ সংখ্যা গণনা কৰা আৰু শুদ্ধ সংখ্যাটো কাষৰ বাকচত লিখা :



Reading - L1

শিক্ষকলৈ নিৰ্দেশনা : ছাত্ৰ-ছাত্ৰীসকলক ইচ্ছানুসাৰে যিকোনো এটা অংশ পঢ়িবলৈ দিব।

34.	প্ৰথম অংশ	ৰণ	
			নৰম
	গছডাল বৰ ওখ।		
	দ্বিতীয় অংশ	কাণ	
			শয়ন
ডাল ভৰি আম লাগিছে।			
	তৃতীয় অংশ	বয়ন	
			পঢ়াশালি
ফুলনিত ফুল ফুলিছে।			

Reading - L2

35.	Frame 1	HEN	DOG	JEEP
	Frame 2	PEN	FOG	DEER
	Frame 3	BAT	LEG	HOOK