

প্রথম দিন

গুণোৎসৱ, প্ৰথম পৰ্যায় - ২০২২

Set-A

শ্ৰেণী : দ্বিতীয় (ভাষা ১, ২, গণিত, লিখন (ভাষা-১, ভাষা-২), সাংখ্যিক দক্ষতা, পঠন (ভাষা-১, ভাষা-২)) মাধ্যম : অসমীয়া

Name of the Student :

Roll No. : Class :

Name of the School :


শিক্ষকৰ বাবে নিৰ্দেশনাবলী—

- প্ৰশ্ন নম্বৰ 1 ৰ পৰা 30 লৈ শিক্ষকে ছাত্ৰ-ছাত্ৰীক পঢ়ি শুনাৰ আৰু শুদ্ধ বিকল্পটোত (✓) চিন দিবলৈ ক'ব। পাছত ছাত্ৰ-ছাত্ৰীয়ে (✓) চিন দিয়া অনুসৰি শিক্ষকে বহিঃমূল্যায়কৰ উপস্থিতিত OMR Sheet ৰ বৃত্তসমূহ গাঢ় কৰি পূৰাব।
- প্ৰশ্ন নম্বৰ 31 ৰ পৰা 33 (d) লৈ প্ৰশ্নসমূহৰ উত্তৰ প্ৰশ্নকাকতত দিয়া নিৰ্দিষ্ট ঠাইত ছাত্ৰ-ছাত্ৰীক লিখিবলৈ দিব। শিক্ষকে উত্তৰসমূহ পৰীক্ষা কৰি মূল্যায়ন নিৰ্দেশনা অনুসৰি নম্বৰ দিব আৰু বহিঃমূল্যায়কৰ সন্মুখত OMR চীটত পূৰাব।
- প্ৰশ্ন নম্বৰ 34 ৰ যিকোনো এটা অংশ আৰু 35 ৰ যিকোনো এটা অংশ ছাত্ৰ-ছাত্ৰীক পঢ়িবলৈ দিব। শিক্ষকে বহিঃমূল্যায়কৰ উপস্থিতিত মূল্যায়ন নিৰ্দেশনাবলীত দিয়া আৰ্হিত ছাত্ৰ-ছাত্ৰীক পঠনৰ নম্বৰ প্ৰদান কৰিব। মূল্যায়ন নিৰ্দেশনাবলীত দিয়া প্ৰ-পত্ৰৰ দৰে ছাত্ৰ-ছাত্ৰীৰ সংখ্যা অনুযায়ী প্ৰ-পত্ৰ প্ৰস্তুত কৰি নম্বৰসমূহ টুকি ৰাখিব আৰু পাছত OMR Sheet ত বৃত্তসমূহ গাঢ় কৰি পূৰাব। অথবা শিক্ষকে পঠনৰ নম্বৰসমূহ পোনপটীয়াকৈও OMR Sheet ত অন্তৰ্ভুক্ত কৰিব পাৰিব।
- ছাত্ৰ-ছাত্ৰীৰ নাম, ৰোল নং, শ্ৰেণী, বিদ্যালয়ৰ নামৰ তথ্যসমূহ শিক্ষকে পূৰ কৰিব।

Language-1

তলত দিয়া প্ৰশ্নসমূহৰ শুদ্ধ উত্তৰটোত () চিন দিয়া।


1. তলত কোনটো বান্দৰৰ ছবি ?



2. তলৰ ছবিটো বুজোৱা শব্দ কোনটো ?

(A) স্কেল

(B) স্কুল



3. তলৰ খালী ঠাইত কোনটো আখৰ বহুৱালে অৰ্থপূৰ্ণ শব্দ হ'ব ?

ন__ন

(A) য

(B) ক

4. তলত দিয়া কোনটো শব্দত 'ঈ' কাৰ যোগ হৈ আছে ?

(A) নগৰীয়া

(B) বাটৰুৱা

5. 'কৰা' শব্দটোৰ সৈতে শেষৰ আখৰৰ মিল থকা শব্দ কোনটো ?

(A) পৰী

(B) ল'ৰা

6. তলত দিয়া কোনটো শব্দত যুক্তাক্ষৰ আছে ?

(A) উত্তম

(B) নৰম

7. তলত দিয়া কোনটো শব্দত 'ল + ল' লগ লাগি হোৱা যুক্তাক্ষৰটো আছে ?

(A) দিল্লী

(B) শাস্ত

8. 'ৰ + ব' লগ লগালে কোনটো যুক্তাক্ষৰ হ'ব ?

(A) ব্য

(B) বঁ

9. 'ন্ত' যুক্তাক্ষৰটো কি কি আখৰ লগ লাগি হৈছে ?

(A) ন + ত

(B) ন + ন

10. তলত দিয়া কোনটো বাকচত স্বৰবৰ্ণ আৰু স্বৰচিহ্ন শুদ্ধকৈ দিয়া আছে ?

A

আ - া
ই - ি
ঈ - ি
এ - ে

B

আ - া
ই - ি
ঈ - ি
এ - ে

Language-2

11. Which of the following is the picture of a 'television'?



(A) (1)

(B) (2)

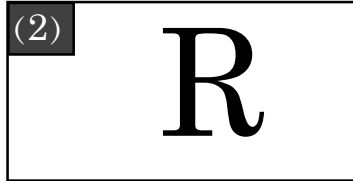

12. Which of the following is the picture of an 'aeroplane'?



(A) (1)

(B) (2)


13. Which of the following is the letter 'P' ?



(A) (1)

(B) (2)



14. Which of the following is the letter 'B' ?



(A) (1)

(B) (2)

15. Which of the following is a correct match ?



CABBAGE

CARROT

(A) (1)

(B) (2)

16. Which of the following is a correct match ?



SUNFLOWER


(A) (1)




MARIGOLD

(B) (2)

17. Which object in the picture begins with the letter 'M' ?



(A) (1)



(B) (2)

18. Which object in the picture begins with the letter 'R' ?



(A) (1)



(B) (2)

19. Choose the correct letter and fill in the blank.



(A) L

(B) M

20. Choose the correct letter and fill in the blank.



(A) T

(B) Q

প্রথম দিন

গুণোৎসৱ, প্ৰথম পৰ্যায় - ২০২২

Set-A

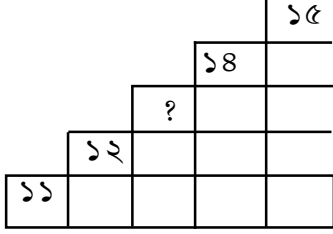
শ্ৰেণী : দ্বিতীয়

(ভাষা ১, ২, গণিত, লিখন (ভাষা-১, ভাষা-২), সাংখ্যিক দক্ষতা, পঠন (ভাষা-১, ভাষা-২))

মাধ্যম : অসমীয়া

Mathematics

21.



বৈ যোৱা সংখ্যাটো কিমান?

(ক) ১৬

(খ) ১৩

22.

৪ দহ ৬	৩ দহ ৬	২ দহ ৬	১ দহ ৬
	৩৬	২৬	১৬

খালী ঠাইত আমি কোনটো সংখ্যা লিখিম?

(ক) ৪৬

(খ) ৪৭

23.



বলৰ চুক কেইটা?

(ক) ০

(খ) ১

24.

৫ দহ ১	৫১
৫ দহ ২	
৫ দহ ৩	৫৩
৫ দহ ৪	৫৪

খালী ৰোৱা বাকচটোত কোনটো সংখ্যা বহিব?

(ক) ৫০

(খ) ৫২

25.



খালী থকা ঠাইত কোনটো ছবি থাকিব?

(ক)

(খ)

প্রথম দিন

গুণোৎসৱ, প্ৰথম পৰ্যায় - ২০২২

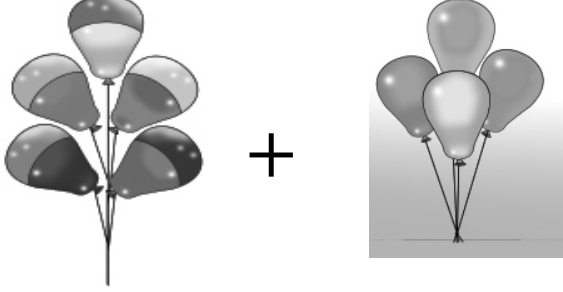
Set-A

শ্ৰেণী : দ্বিতীয়

(ভাষা ১, ২, গণিত, লিখন (ভাষা-১, ভাষা-২), সাংখ্যিক দক্ষতা, পঠন (ভাষা-১, ভাষা-২))

মাধ্যম : অসমীয়া

26.



৫ টা বেলুন + ৪ টা বেলুন = টা বেলুন

(ক) ৯ টা

(খ) ১ টা

27.

দহক	একক
২	৫
১	২
১	

খালী থকা ঘৰটোত কোনটো সংখ্যা বহিব?

(ক) ৭

(খ) ৩

28.

৩৫ টকা

– ২০ টকা

শুদ্ধ বিয়োগফলটো কিমান হ'ব?

(ক) ১৫ টকা

(খ) ৫৫ টকা

29.



গছৰ পাতৰে বনোৱা এই আকৃতিটোৰ নাম কি?

(ক) বৃত্ত

(খ) ত্ৰিভুজ

30.

চোতালত শেৰালি ফুল সৰি আছিল।

মণিয়ে বুটলিলে ১২ পাহ ফুল।

ৰুমীয়ে বুটলিলে ১১ পাহ ফুল।

মুঠতে কেইপাহ ফুল গোট খালে ?

(ক) ২৩ পাহ

(খ) ১২ পাহ

প্রথম দিন

গুণোৎসৱ, প্ৰথম পৰ্যায় - ২০২২

Set-A

শ্ৰেণী : দ্বিতীয়

(ভাষা ১, ২, গণিত, লিখন (ভাষা-১, ভাষা-২), সাংখ্যিক দক্ষতা, পঠন (ভাষা-১, ভাষা-২))

মাধ্যম : অসমীয়া

Writing - L1



31. তলত দিয়া ছবিকেইখন চোৱা আৰু যিকোনো এখন ছবিৰ বিষয়ে তিনিশাৰী বাক্য লিখা।



উত্তৰ :

Writing - L2

32. Write the name of the objects given in the pictures.



Ans :

Numeracy

33. (a) আখৰেৰে লিখা থকা তলৰ সংখ্যাটো দহ আৰু এক হিচাপে লিখা :

উনত্রিশ =

দহ	এক

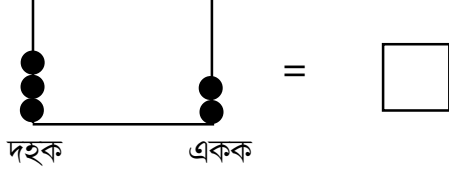
(b) যোগ কৰা :

	দহক	একক
+	৭	৬
	২	৩

(c) বিয়োগ কৰা :

	দহক	একক
-	৩	৩
		৬

(d) তলৰ মণিশলাৰ মণিৰ সংখ্যা গণনা কৰা আৰু শুদ্ধ সংখ্যাটো কাষৰ বাকচত লিখা :



Reading - L1

শিক্ষকলৈ নিৰ্দেশনা : ছাত্ৰ-ছাত্ৰীসকলক ইচ্ছানুসাৰে যিকোনো এটা অংশ পঢ়িবলৈ দিব।

34.

প্ৰথম অংশ	বল	
	বহল	
	কমলে বল খেলে।	
দ্বিতীয় অংশ	ধান	
		গৰম
	আজি বৰ গৰম।	
তৃতীয় অংশ	তপত	
		পাহাৰ
	পাহাৰখন বৰ ওখ।	

Reading - L2

35.

Frame 1	BOY	FOX	ROOT
Frame 2	TOY	BOX	BOOK
Frame 3	CAT	MUG	FOOT