

तृतीय दिन

गुणोत्सव, प्रथम चरण, 2022

सेट-सी

कक्षा : I

( भाषा-1, भाषा-2 एवं गणित )

माध्यम : हिंदी

Name of the Student : .....

Roll No. : ..... Class : .....



Name of the School : .....

### शिक्षक के लिए निर्देश



- \* प्रश्न संख्या 1 से 30 तक विद्यार्थी सही विकल्प का चयन कर (✓) सही चिह्न देंगे।
- \* शिक्षक विद्यार्थियों को पढ़कर सुनायेंगे और सही विकल्प पर (✓) सही चिह्न देने के लिए कहेंगे। बाह्य निरीक्षक की उपस्थिति में शिक्षक विद्यार्थियों द्वारा दिए गए (✓) सही चिह्न के अनुसार OMR SHEET के गोलाकृति को भरेंगे।
- \* विद्यार्थियों के नाम, अनुक्रमांक, कक्षा, विद्यालय का नाम आदि तथ्य शिक्षक भरेंगे।

### Language-1


1. निम्नलिखित में से कौन-सा लोमड़ी का चित्र है ?



2. निम्नलिखित में से कौन-सा प्राणी बिल में रहता है ?




3. नीचे दिए गए वर्णों में से कौन-सा वर्ण जोड़ने से सही शब्द बनेगा ?



(A) स

(B) ल



4. 'औ' की मात्रा युक्त शब्द का चयन करो :

(A) बैल

(B) पौधा

5. निम्नलिखित में से किस शब्द में 'उ' वर्ण है ?

(A) ढोल

(B) उदय

6. नीचे दिए गए कौन-से शब्द में 'च' वर्ण है ?

(A) अचरज

(B) अजगर

7. चित्र में दिए गए प्राणी के नाम के अक्षर नीचे के किस पंक्ति में छिपे हुए हैं ?



(A) र मो

(B) र्गा मु

8. निम्नलिखित में से कौन-सा उपकरण खेलने में व्यवहार होता है ?

(A) फुटबॉल

(B) कलम

9. निम्नलिखित में से जानवर का नाम कौन-सा है ?

(A) चील

(B) भालू

10. निम्नलिखित चित्रों में से किस चित्र का नाम 'ह' वर्ण से शुरू होता है ?



(A) 1

(B) 2

**Language-2**


11. Which of the following is the picture of a 'bat'?



(A) (1)

(B) (2)


12. Which of the following is the picture of a 'crow'?



(A) (1)

(B) (2)

13. Which of the following is the letter 'E' ?



(A) (1)

(B) (2)

14. Which of the following is the letter 'N' ?



(A) (1)



(B) (2)

15. Which of the following is the correct match ?



BUS

(A) (1)



BUS


(B) (2)

16. Which of the following is the correct match ?



ROSE

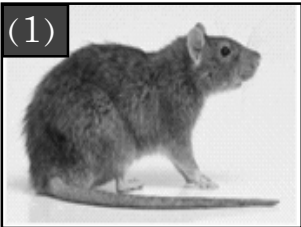
(A) (1)




ROSE

(B) (2)

17. Which object in the following pictures begins with the letter 'r' ?




(A) (1)



(B) (2)

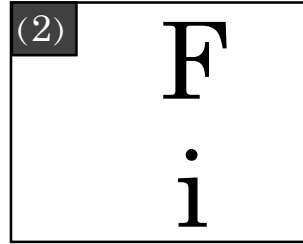
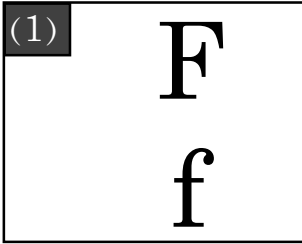
18. Which object in the following pictures begins with the letter 't' ?



(A) (1)

(B) (2)

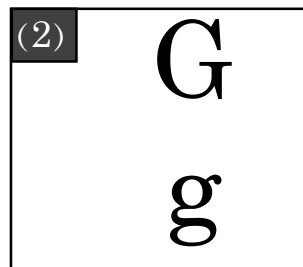
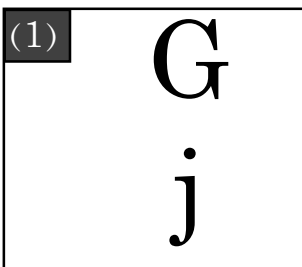
19. Which of the following is the correct match ?



(A) (1)

(B) (2)

20. Which of the following is the correct match ?



(A) (1)

(B) (2)

## Mathematics

21.



अन्नानास



आम

निम्न में से कौन सा चित्र भारी है ?

(A) आम

(B) अन्नानास

22.



हमारे हाथ में कितनी अंगुलियाँ हैं ?

(A) 4

(B) 5

23.



दिये गए घर के चित्र में दरवाजा का आकार क्या है ?

(A) चार कोना वाला आकार

(B) तीन कोना वाला आकार

24. विक्की के पास 3 सेब हैं और उसके पिताजी उसे 2

सेब और अधिक दिये। तो

अब उसके पास कितने सेब हैं ?

(A) 1

(B) 5

तृतीय दिन

गुणोत्सव, प्रथम चरण, 2022




सेट-सी

कक्षा : I

( भाषा-1, भाषा-2 एवं गणित )

माध्यम : हिंदी

25.


	2
	- 1
	

चित्र को देखो और घटावफल को लिखो।

(A) 1

(B) 3

26.

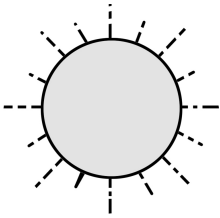


फूलों के बीच खाली जगह में क्या संख्या है ?

(A) 10

(B) 12

27.



“सूर्य उगता है तब मैं जगता हूँ”

तो यह काम तुम्हारा किस समय होता है ?

(A) प्रातःकाल

(B) दोपहर

तृतीय दिन

## गुणोत्सव, प्रथम चरण, 2022




सेट-सी

कक्षा : I

( भाषा-1, भाषा-2 एवं गणित )

माध्यम : हिंदी

28.

4	
+3	+ 
	

उपर्युक्त चित्रों को देखो और उनके योग को लिखो ?

(A) 6

(B) 7

29.



नारियल



पत्ती

निम्न में से कौन एक भारी है ?

(A) नारियल

(B) पत्ती

30. 2 दहाई 2 इकाई =

दहाई	इकाई
2	

उपर्युक्त खाली जगह में निम्न कौनसी संख्या होगी ?

(A) 2

(B) 10

- o o o -