

द्वितीय दिन

गुणोत्सव, प्रथम चरण, 2022

सेट-बी

कक्षा : I

(भाषा-1, भाषा-2 एवं गणित)

माध्यम : हिंदी

Name of the Student :

Roll No. : Class :



Name of the School :

शिक्षक के लिए निर्देश

- * प्रश्न संख्या 1 से 30 तक विद्यार्थी सही विकल्प का चयन कर (✓) सही चिह्न देंगे।
- * शिक्षक विद्यार्थियों को पढ़कर सुनायेंगे और सही विकल्प पर (✓) सही चिह्न देने के लिए कहेंगे। बाह्य निरीक्षक की उपस्थिति में शिक्षक विद्यार्थियों द्वारा दिए गए (✓) सही चिह्न के अनुसार OMR SHEET के गोलाकृति को भरेंगे।
- * विद्यार्थियों के नाम, अनुक्रमांक, कक्षा, विद्यालय का नाम आदि तथ्य शिक्षक भरेंगे।

Language-1

1. निम्नलिखित में से कौन-सा सारिका का चित्र है ?



2. निम्नलिखित में से कौन-सा प्राणी आसमान में उड़ सकता है ?



3. नीचे दिए गए वर्णों में से कौन-सा वर्ण जोड़ने से सही शब्द बनेगा ?

अ ना

(A) र

(B) ल



4. 'ऐ' की मात्रा युक्त शब्द का चयन करो :

- (A) पैर (B) बेटा

5. निम्नलिखित में से किस शब्द में 'औ' वर्ण है ?

- (A) अनाज (B) औरत

6. नीचे दिए गए कौन-से शब्द में 'र' वर्ण है ?

- (A) अदरक (B) उपवन

7. चित्र में दिए गए जानवर के नाम के अक्षर नीचे के किस पंक्ति में छिपे हुए हैं ?

- (A) ल को य



- (B) र न हि


8. निम्नलिखित में से कौन-सा उपकरण लिखने में व्यवहार होता है ?

- (A) मरहम (B) कलम

9. निम्नलिखित में से चिड़िया का नाम कौन-सा है ?

- (A) बगुला (B) चींटी

10. निम्नलिखित चित्रों में से किस चित्र का नाम 'ब' वर्ण से शुरू होता है ?




- (A) (2)

- (B) (1)

Language-2

11. Which of the following is the picture of a 'carrot'?



(A) (1)

(B) (2)



12. Which of the following is the picture of a 'horse'?



(A) (1)

(B) (2)

13. Which of the following is the letter 'C' ?



(A) (1)

(B) (2)



14. Which of the following is the letter 'A' ?



(A) (1)

(B) (2)

15. Which one of the following is the correct match ?




APPLE

APPLE

(A) (1)

(B) (2)

16. Which one of the following is the correct match ?



TOMATO

TOMATO

(A) (1)

(B) (2)



17. Which object in the following picture begins with the letter 'm' ?



(A) (1)

(B) (2)

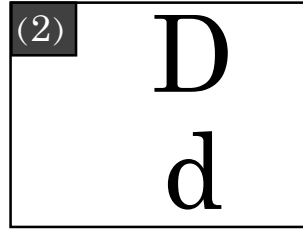
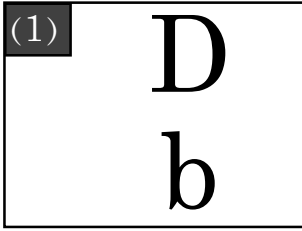
18. Which object in the following pictures begins with the letter 'f' ?



(A) (1)

(B) (2)

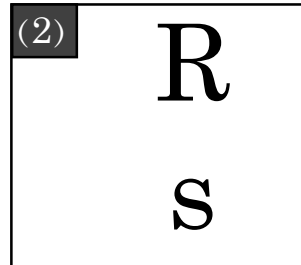
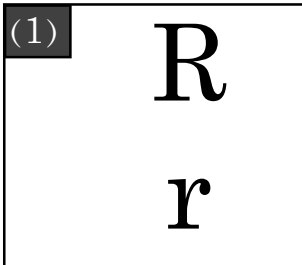
19. Which of the following is correct match ?



(A) (1)

(B) (2)

20. Which of the following is correct match ?



(A) (1)

(B) (2)

Mathematics

21.



पेड़ - 1

पेड़ - 2

उपर्युक्त चित्र में निम्न में से कौन सा पेड़ घर से अधिक दूरी पर अवस्थित है ?

(A) पेड़ - 1

(B) पेड़ - 2

22.



उपर्युक्त चित्र में कितनी मछलियाँ हैं ?

(A) 2

(B) 3

23.



एक साईकिल के पहिया का आकार क्या है ?

(A) गोलाकार वाला

(B) तीन कोना वाला आकार

24. विक्की के पास 3 सेब हैं।

उसके पिताजी उसे 2 और अधिक सेब दिये।

अब उसके हाथ में कुल कितने सेब हैं ?

(A) 3

(B) 5

द्वितीय दिन

गुणोत्सव, प्रथम चरण, 2022




सेट-बी

कक्षा : I

(भाषा-1, भाषा-2 एवं गणित)

माध्यम : हिंदी

25.

	3
	- 1
	

उपर्युक्त चित्रों को देखो और घटावफल का मान लिखो।

(A) 2

(B) 3

26.

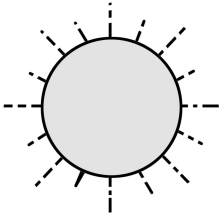
12	बारह
13	तेरह
14	
15	पन्द्रह

उपर्युक्त खाली जगह में कौन सा होगा ?

(A) ग्यारह

(B) चौदह

27.






“सूर्य उगता है तब मैं जगा”

तो तुम्हारा यह काम करने का समय क्या है ?

(A) प्रातःकाल

(B) दोपहर

28.

 + 	5 + 2
	

उपर्युक्त चित्र को देखो और उनके योग को खाली जगह में लिखो ?

(A) 7

(B) 8

29.



पेंसिल - 1



पेंसिल - 2

उपर्युक्त चित्र में कौन सा पेंसिल अधिक लम्बा है ?

(A) पेंसिल - 1

(B) पेंसिल - 2

30. (3) तीन दहाई 6 इकाई =

दहाई	इकाई
3	

खाली जगहों में कौनसी संख्या होगी ?

(A) 6

(B) 10

- o o o -