

प्रथम दिन

गुणोत्सव, प्रथम चरण, 2022

सेट-ए

कक्षा : I

( भाषा-1, भाषा-2 एवं गणित )

माध्यम : हिंदी

Name of the Student : .....

Roll No. : ..... Class : .....


Name of the School : .....

### शिक्षक के लिए निर्देश



- \* प्रश्न संख्या 1 से 30 तक विद्यार्थी सही विकल्प का चयन कर (✓) सही चिह्न देंगे।
- \* शिक्षक विद्यार्थियों को पढ़कर सुनायेंगे और सही विकल्प पर (✓) सही चिह्न देने के लिए कहेंगे। बाह्य निरीक्षक की उपस्थिति में शिक्षक विद्यार्थियों द्वारा दिए गए (✓) सही चिह्न के अनुसार OMR SHEET के गोलाकृति को भरेंगे।
- \* विद्यार्थियों के नाम, अनुक्रमांक, कक्षा, विद्यालय का नाम आदि तथ्य शिक्षक भरेंगे।

### Language-1


1. निम्नलिखित में से कौन-सा तितली का चित्र है ?



2. निम्नलिखित में से कौन-सा प्राणी पानी में रहता है ?




3. नीचे दिए गए वर्णों में से कौन-सा वर्ण जोड़ने से सही शब्द बनेगा ?



(A) ल

(B) द



4. 'इ' की मात्रा युक्त शब्द का चयन करो :

(A) दिन

(B) दान

5. निम्नलिखित में से किस शब्द में 'झ' वर्ण है ?

(A) झुमुर

(B) ऋषि

6. नीचे दिए गए कौन-से शब्द में 'ध' वर्ण है ?

(A) धड़कन

(B) अचानक

7. चित्र में दिए गए जानवर के नाम के अक्षर नीचे के किस पंक्ति में छिपे हुए हैं ?



(A) त क बू र

(B) श र ख गो

8. निम्नलिखित में से कौन-सा उपकरण रसोई घर में व्यवहार होता है ?

(A) बेलन

(B) कलम

9. निम्नलिखित में से मछली का नाम कौन-सा है ?

(A) बैंगन

(B) मांगुर

10. निम्नलिखित चित्रों में से किस चित्र का नाम 'अ' वर्ण से शुरू होता है ?





(A) (1)

(B) (2)

**Language-2**

11. Which of the following is the picture of a 'dog' ?



(A) (1)

(B) (2)


12. Which of the following is the picture of a 'hen' ?



(A) (1)

(B) (2)

13. Which of the following is the letter 'P' ?



(A) (1)

(B) (2)

14. Which of the following is the letter 'D' ?



(A) (1)

(B) (2)

15. Which one of the following is the correct match ?



PARROT

PARROT

(A) (1)

(B) (2)

16. Which one of the following is the correct match ?



CAP

CAP

(A) (1)

(B) (2)


17. Which object in the following pictures begins with the letter 'b' ?



(A) (1)

(B) (2)

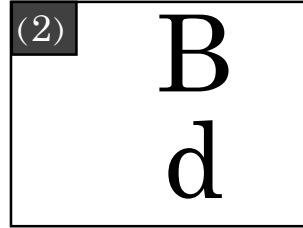
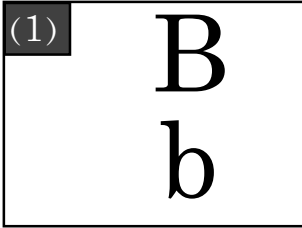
18. Which object in the picture begins with the letter 'p' ?



(A) (1)

(B) (2)

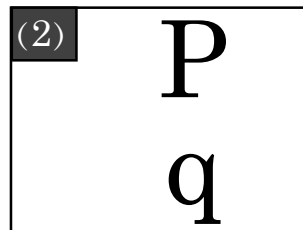
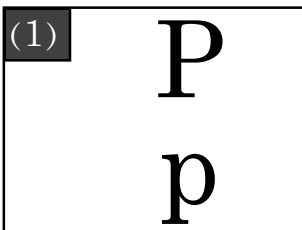
19. Which one of the following is the correct match ?



(A) (1)

(B) (2)

20. Which one of the following is the correct match ?



(A) (1)

(B) (2)

## Mathematics



बॉल - 1


बॉक्स में कौन सा बॉल है ?

(A) बॉल - 1



बॉल - 2

(B) बॉल - 2



वृत्त के अन्दर कितने पत्तियाँ हैं ?

(A) 3

(B) 4

23.



उपर्युक्त दिये गए चित्र का आकार क्या है ?

(A) चार कोना वाला आकार

(B) तीन कोना वाला आकार

24. विक्की के पास 3 सेब हैं। उसके पिताजीने 2 और अधिक सेब दिये। अब उसके हाथ में कुल कितने सेब हैं ?

(A) 4

(B) 5

प्रथम दिन

## गुणोत्सव, प्रथम चरण, 2022




सेट-ए

कक्षा : I

( भाषा-1, भाषा-2 एवं गणित )

माध्यम : हिंदी

25.

	2
	- 1
	

उपर्युक्त चित्र को देखो और घटाव का मान लिखो।

(A) 1

(B) 2

26.

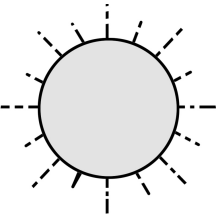
पन्द्रह	15
सोलह	16
सत्तरह	
अठारह	18

निम्न में से कौन सी संख्या उपर्युक्त खाली जगह में होगा ?

(A) 17

(B) 14

27.






“सूर्य उगता है तब मैं जगा”

तो तुम्हारा ये काम करने का समय क्या है ?

(A) प्रातःकाल

(B) दोपहर


28.		3
	+ 	+ 2
		

उपर्युक्त चित्र को देखो और इसका योग को खाली जगह में लिखो ?


(A) 4

(B) 5

29.



गिलास - 1



गिलास - 2

कौनसा गिलास भारी है ?

(A) गिलास - 1

(B) गिलास - 2

30. 2 दहाई 9 इकाई =

दहाई	इकाई
	9

उपर्युक्त खाली जगह में निम्न कौनसी संख्या होगी ?

(A) 10

(B) 2

- o o o -