

No. of Printed Pages : 8

Sl. No.

Day - 2

गुन'त्सव, PHASE-I, 2022

Set - B

थाखो : I

(Language-1, Language-2 & Maths)

बिजो : बर'

Name of the Student : .....

Roll No. : ..... Class : .....


Name of the School : .....

### फोरोगिरिसिम बिथोन

- सोथि नं 1 निफ्राय 30 सिम फरायसाफ्रा गेबें फिननायाव (✓) सिन होगोन।
- फोरोगिरिआ सोथिफोरखौ फरायसाफोरनो फरायना खोनासंहोगोन गेबें फिननायाव (✓) सिन होनो बुंगोन। उनाव फरायसाफ्रा (✓) सिनहोनाय बादियै फोरोगिरिया External Evaluator नि सिगाडाव OMR Sheet नि बेंखनफोरखौ सुफुंगोन।
- फरायसाफोरनि मुं, र'लनं, थाखो, फरायसालिनि मुं नि खारिफोरखौ फोरोगिरिआ सुफुंगोन।

### Language-1

1. गाहायनि बबेया दाउस्त्रिनि सावगारि ?



2. सावगारि मोननैयाव थानाय बबे जिउनाडा अख्राडाव बिरनो हायो बुं।




3. गाहायाव होनाय बबे हांखोखौ दाजाबोब्ला सोदोबा आबुं जागोन ?

डा लि

(A) म

(B) ल



4. "ऐ" महर दाजाबनाय सोदोबखौ सिनायथिना दिहुन ।

(A) गौरै

(B) लथा

5. गाहायाव होवाप बबे सोदोबाव औ आखर दं ?

(A) औवा

(B) दाल

6. गाहायाव होनाय बबे सोदोबाव 'र' हांखोया दड ।

(A) नोगोरव

(B) आंखालाव

7. गाहायनि बबे लारियाव सावगारियाव थानाय जुनारनि मुंनि हांखोफ्रा थाखोमानानै दड ।

(A) खा उ दा



(B) ग इ रा

8. गाहायाव होनाय बबेया लिस्नायाव बाहाय जानाय आइजें

(A) मलम


(B) कलम

9. गाहायाव होनाय बबेया दाउनि मुं ?

(A) ईगल

(B) मोस्रोम

10. गाहायनि बबे सोदोबा 'म' आखरजों जोदों ?




(A) (1)

(B) (2)

**Language-2**

11. Which of the following is the picture of a 'carrot'?



(A) (1)

(B) (2)



12. Which of the following is the picture of a 'horse'?



(A) (1)

(B) (2)

13. Which of the following is the letter 'C' ?



(A) (1)

(B) (2)


14. Which of the following is the letter 'A' ?



(A) (1)

(B) (2)

15. Which one of the following is the correct match ?




APPLE

APPLE

(A) (1)

(B) (2)

16. Which one of the following is the correct match ?



TOMATO

TOMATO

(A) (1)

(B) (2)



17. Which object in the following picture begins with the letter 'm' ?



(A) (1)

(B) (2)

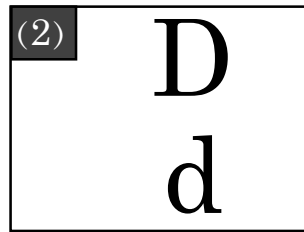
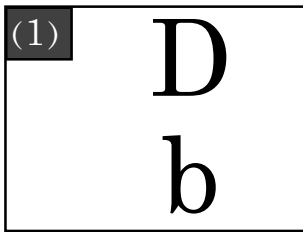
18. Which object in the following pictures begins with the letter 'f' ?



(A) (1)

(B) (2)

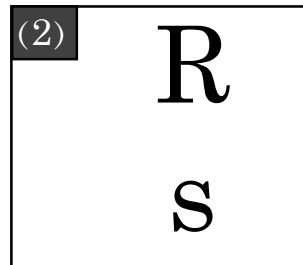
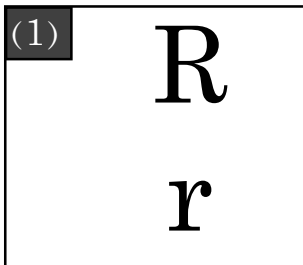
19. Which of the following is correct match ?



(A) (1)

(B) (2)

20. Which of the following is correct match ?



(A) (1)

(B) (2)

## Mathematics

21.



लाइफां 1

लाइफां 2

बबे फांसे लाइफांआ न 'निफ्राय जानगाराव दं ?

(क) लाइफां 1

(ख) लाइफां 2

22.



गोजौनि सावगारियाव माबोसे ना दं ?

(क) 2

(ख) 3

23.



बासनि साखानि महरा माबायदि ?

(क) थाम खनाआरि




(ख) बैखनआरि

24. बिख्रिनि आखायाव दंमोन 3 थाइ आपेल । बिफाया बिख्रिनो आरो 2 थाइ आपेल होबावयो । बिख्रिनि आखाइयाव दानिया गासै थाइबोसे आपेल ज 'मा जाखो ?

(क) 3

(ख) 5

25.

	3
	- 1
	

सावगारियाव नायनानै गेबें दानख 'गासैया बेसेबां जागोन ?

(क) 2

(ख) 3

26.

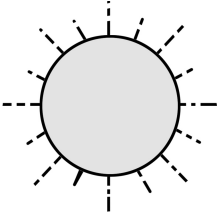
12	जिनै
13	जिथाम
	जिब्रै
15	जिबा

लांदां थानाय खथायाव जों बबे अनजिमाजों लिरगोन ?

(क) 11

(ख) 14

27.






'सानआ ओंखारबाय । आं उन्दुनायनिफ्राय सिखारबाय'

बबे समाव नों बे खामानिखौ मावखो ?

(क) फुंबिलियाव

(ख) मोनाबिलियाव

28.

 + 	5 + 2
	

सावगारिख्रौ नायना साननानै गेबें दाजाबगासैआ मा जागोन ?

(क) 7

(ख) 8

29.



फेनसिल 1



फेनसिल 2

बबे फेनसिला गोलावसिन ?

(क) फेनसिल 1

(ख) फेनसिल 2

30. थाम जि द' =

मुंजि	मुंसे
3	

लांदां थानाय मुंजिनि खथायाव मा अनजिमा जागोन ?

(क) 6

(ख) 10

- o o o -