

তৃতীয় দিন

শুগোৎসব, প্রথম পর্যায়, ২০২২

Set-C

শ্রেণি : প্রথম

(ভাষা-১, ভাষা-২ এবং গণিত)

মাধ্যম : বাংলা

Name of the Student :

Roll No. : Class :



Name of the School :

শিক্ষকদের জন্য নির্দেশনা


- প্রশ্ন নং 1 থেকে 30 পর্যন্ত শিক্ষক প্রশ্নগুলি শিক্ষার্থীদের পড়ে শোনাবেন এবং শুদ্ধ বিকল্পটিতে (✓) চিহ্ন দিতে বলবেন। পরবর্তীতে শিক্ষক শিক্ষার্থীদের দ্বারা প্রদত্ত (✓) চিহ্ন অনুসারে বাহ্যিক মূল্যায়কের উপস্থিতিতে শিক্ষক OMR পত্রের গোল চিহ্নগুলি কালো কালি দিয়ে পূর্ণ করবেন।
- শিক্ষার্থীদের নাম, ক্রমিক নং, শ্রেণি, বিদ্যালয়ের নাম সংক্রান্ত যাবতীয় তথ্য শিক্ষক পূরণ করবেন।

Language-1

1. নীচের কোনটি শিয়ালের ছবি ?



2. ছবিতে দেখানো দুটি প্রাণীর কোনটি গর্তে বাস করে ?




3. নীচে দেওয়া কোন বর্ণ যোগ করলে শব্দটি সম্পূর্ণ হবে ?

ক লা

(A) ল

(B) ম



4. 'ঔ' কার যোগ হয়েছে যে শব্দে সেটি বলো।

(A) বৈঠা

(B) নৌকা

5. নীচের কোন শব্দে 'ভ' বর্ণটি আছে ?

(A) বিষয়

(B) ভাই

6. নীচের কোন শব্দে 'চ' বর্ণটি আছে ?

(A) নিশাচর

(B) দিবাকর

7. নীচের কোন সারিতে পাশে দেখানো প্রাণিটির নাম লুকিয়ে আছে ?

(A) যু ম র

(B) গি মু র



8. নীচের কোনটি খেলতে লাগে ?

(A) ফুটবল

(B) কলম

9. নীচের কোনটি পাখির নাম ?

(A) পায়রা

(B) পিপড়া

10. নীচের শব্দ দুইটির কোনটি মাছের নাম ?

(A) পটল

(B) চিতল

Language-2

11. Which of the following is the picture of a 'bat'?



(A) (1)

(B) (2)


12. Which of the following is the picture of a 'crow'?



(A) (1)

(B) (2)

13. Which of the following is the letter 'E' ?



(A) (1)

(B) (2)


14. Which of the following is the letter 'N' ?



(A) (1)

(B) (2)

15. Which of the following is the correct match ?



BUS



BUS


(A) (1)

(B) (2)

16. Which of the following is the correct match ?



ROSE

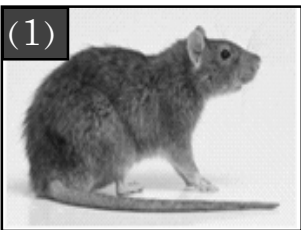


ROSE


(A) (1)

(B) (2)

17. Which object in the following pictures begins with the letter 'r' ?



(A) (1)



(B) (2)

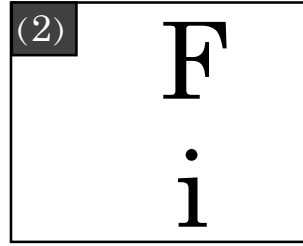
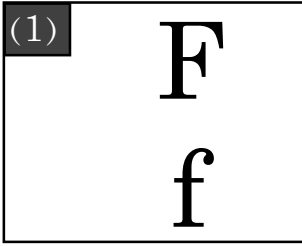
18. Which object in the following pictures begins with the letter 't' ?



(A) (1)

(B) (2)

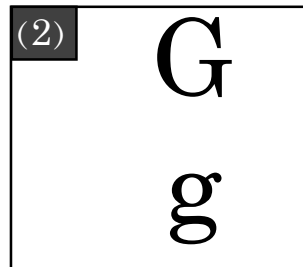
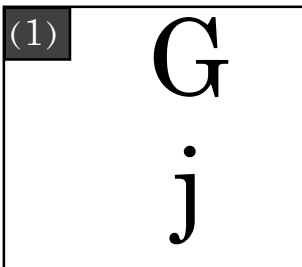
19. Which of the following is the correct match ?



(A) (1)

(B) (2)

20. Which of the following is the correct match ?



(A) (1)

(B) (2)

Mathematics

21.



আনারস



আম

কোন ফলটির ওজন বেশী?

(ক) আম

(খ) আনারস

22.



আমার _____ টি আঙ্গুল আছে।

(ক) ৪

(খ) ৫

23.



ছবিতে থাকা ঘরটির জানালা কী আকারের?

(ক) চারকোণাকার

(খ) গোলাকার

24. বিকির হাতে ৩টি আপেল ছিল। পিতা বিকিকে আরও দুইটি আপেল দিল। বিকির হাতে মোট কয়টি আপেল আছে?

(ক) ১

(খ) ৫

তৃতীয় দিন




গুণোৎসব, প্রথম পর্যায়, ২০২২

Set-C

শ্রেণি : প্রথম

(ভাষা-১, ভাষা-২ এবং গণিত)


মাধ্যম : বাংলা

25.		২
		- ১
		

ছবি দেখে শুদ্ধ বিয়োগফল নির্ণয় কর?

(ক) ১

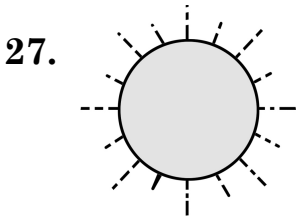
(খ) ৩



খালি ফুলটিতে কী সংখ্যা বসিবে?

(ক) ১০




(খ) ১২



‘সূর্য উদয় হল। আমি বিছানা থেকে উঠিলাম।’ তুমি কখন এই কাজটি করিয়াছ?

(ক) সকালে

(খ) বিকালে

28.	8	
	+ 3	+ 
		

ছবি দেখে শুদ্ধ যোগফল নির্ণয় কর?

(ক) ৬

(খ) ৭

29.



নারিকেল



পাতা

কোনটির ওজন বেশী?

(ক) নারিকেল

(খ) পাতা

30. দুই দশ দুই =

দশক	একক
২	

খালি থাকা এককের ঘরে কী সংখ্যা বসবে?

(ক) ২

(খ) ১০

- o o o -