

দ্বিতীয় দিন

শুগোৎসব, প্রথম পর্যায়, ২০২২

Set-B

শ্রেণি : প্রথম

(ভাষা-১, ভাষা-২ এবং গণিত)

মাধ্যম : বাংলা

Name of the Student :

Roll No. : Class :



Name of the School :

শিক্ষকদের জন্য নির্দেশনা

- প্রশ্ন নং 1 থেকে 30 পর্যন্ত শিক্ষক প্রশ্নগুলি শিক্ষার্থীদের পড়ে শোনাবেন এবং শুদ্ধ বিকল্পটিতে (✓) চিহ্ন দিতে বলবেন। পরবর্তীতে শিক্ষক শিক্ষার্থীদের দ্বারা প্রদত্ত (✓) চিহ্ন অনুসারে বাহ্যিক মূল্যায়কের উপস্থিতিতে শিক্ষক OMR পত্রের গোল চিহ্নগুলি কালো কালি দিয়ে পূর্ণ করবেন।
- শিক্ষার্থীদের নাম, ক্রমিক নং, শ্রেণি, বিদ্যালয়ের নাম সংক্রান্ত যাবতীয় তথ্য শিক্ষক পূরণ করবেন।

Language-1

1. নীচের কোনটি শালিকের ছবি ?



2. নীচের ছবি দুটির মধ্যে কোন প্রাণিটি আকাশে উড়তে পারে ?



3. নীচের কোন বর্ণটি যোগ করলে শব্দটি সম্পূর্ণ হবে ?

ডা লি

(A) ম

(B) ল



4. 'ঐ' কার রয়েছে যে শব্দে সেটি বের করো

(A) শনৈ

(B) সেরা

5. নীচের কোন শব্দে 'ঢ' বর্ণ আছে ?

(A) শিয়াল

(B) ঢোলক

6. নীচের কোন শব্দে 'র' বর্ণ রয়েছে?

(A) জহরত

(B) অবিকল

7. নীচের কোন সারিতে পাশে দেখানো প্রাণীটির নাম লুকিয়ে আছে।

(A) লি শা ক

(B) রি ণ হ



8. নীচের কোনটি লেখার কাজে লাগে ?

(A) মলম

(B) কলম

9. নীচের কোনটি পাখির নাম ?

(A) পায়রা

(B) পিপড়া


10. 'ই'-কার যোগ হয়েছে শব্দটি বেছে বের কর।

(A) দিন।

(B) দান।

Language-2

11. Which of the following is the picture of a 'carrot'?



(A) (1)

(B) (2)



12. Which of the following is the picture of a 'horse'?



(A) (1)

(B) (2)

13. Which of the following is the letter 'C' ?



(A) (1)

(B) (2)



14. Which of the following is the letter 'A' ?



(A) (1)

(B) (2)

15. Which one of the following is the correct match ?



APPLE

APPLE

(A) (1)

(B) (2)

16. Which one of the following is the correct match ?



TOMATO

TOMATO

(A) (1)

(B) (2)



17. Which object in the following picture begins with the letter 'm' ?



(A) (1)

(B) (2)

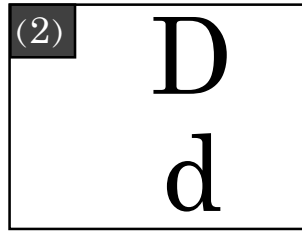
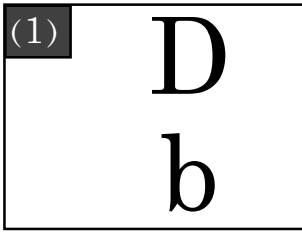
18. Which object in the following pictures begins with the letter 'f' ?



(A) (1)

(B) (2)

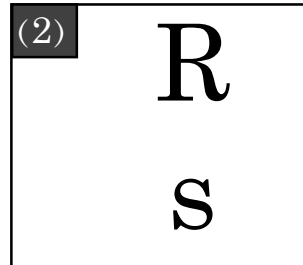
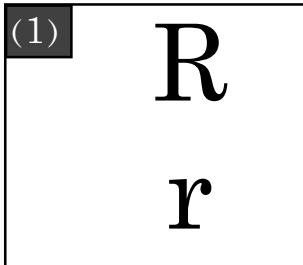
19. Which of the following is correct match ?



(A) (1)

(B) (2)

20. Which of the following is correct match ?



(A) (1)

(B) (2)

Mathematics

21.



গাছ ১

গাছ ২

কোন গাছটি ঘর থেকে দূরে আছে?

(ক) গাছ ১

(খ) গাছ ২

22.



উপরের ছবিতে কয়টি মাছ আছে?

(ক) ২

(খ) ৩

23.



সাইকেলের চাকা কী আকারের?

(ক) গোলাকার

(খ) তিন কোণাকৃতি

24. বিকির হাতে ৩ টি আপেল ছিল। পিতা বিকিকে আরও ২ টি আপেল দিল। বিকির হাতে মোট কয়টি আপেল আছে?

(ক) ৩

(খ) ৫

দ্বিতীয় দিন

গুণোৎসব, প্রথম পর্যায়, ২০২২




Set-B

শ্রেণি : প্রথম

(ভাষা-১, ভাষা-২ এবং গণিত)

মাধ্যম : বাংলা

25.

	৩
	- ১
	

ছবি দেখে শুদ্ধ বিয়োগফল নির্ণয় কর।

(ক) ২

(খ) ৩

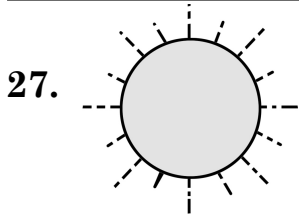
26.

১২	বারো
১৩	তেরো
	চৌদ্দ
১৫	পনেরো

খালি থাকা ঘরটিতে কী সংখ্যা বসবে?

(ক) ১১

(খ) ১৪



‘সূর্য উদয় হল। আমি বিছানা থেকে উঠিলাম।’

তুমি কখন এই কাজটি করিয়াছ?

(ক) সকালে

(খ) বিকালে

28.

	<p>৫</p> <p>+ ২</p>

ছবি দেখে শুদ্ধ যোগফলটি কী হবে নির্ণয় কর?

(ক) ৭

(খ) ৮

29.



পেন্সিল ১



পেন্সিল ২

কোন পেন্সিলটি লম্বা?

(ক) পেন্সিল ১

(খ) পেন্সিল ২

30. তিনদশ ছয় =

দশক	একক
৩	

খালি থাকা এককের ঘরে কী সংখ্যা বসিবে?

(ক) ৬

(খ) ১০

- ০ ০ ০ -