

প্রথম দিন

শুগোৎসব, প্রথম পর্যায়, ২০২২

Set-A

শ্রেণি : প্রথম

(ভাষা-১, ভাষা-২ এবং গণিত)

মাধ্যম : বাংলা

Name of the Student : .....

Roll No. : ..... Class : .....

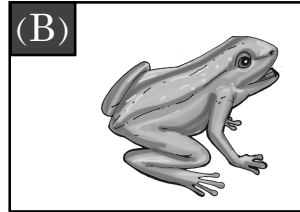

Name of the School : .....

### শিক্ষকদের জন্য নির্দেশনা



- প্রশ্ন নং 1 থেকে 30 পর্যন্ত শিক্ষক প্রশ্নগুলি শিক্ষার্থীদের পড়ে শোনাবেন এবং শুদ্ধ বিকল্পটিতে (✓) চিহ্ন দিতে বলবেন। পরবর্তীতে শিক্ষক শিক্ষার্থীদের দ্বারা প্রদত্ত (✓) চিহ্ন অনুসারে বাহ্যিক মূল্যায়কের উপস্থিতিতে শিক্ষক OMR পত্রের গোল চিহ্নগুলি কালো কালি দিয়ে পূর্ণ করবেন।
- শিক্ষার্থীদের নাম, ক্রমিক নং, শ্রেণি, বিদ্যালয়ের নাম সংক্রান্ত যাবতীয় তথ্য শিক্ষক পূরণ করবেন।

## Language-1

1. নীচের ছবি দেখে প্রজাপতির ছবিতে (✓) দাও।



2. নীচের ছবির কোন প্রাণীটি জলে বাস করে?




3. নীচে দেওয়া কোন বর্ণ যোগ করলে শব্দটি সম্পূর্ণ হবে?

ক    ম   

(A) প।

(B) ল।



4. “ই”-কার যোগ হয়েছে শব্দটি বেছে বের কর।

(A) দিন।

(B) দান।

5. নীচের কোন শব্দে ‘ঝ’ বর্ণ আছে ?

(A) ঝুম্ব

(B) গাঢ়

6. নীচের কোন শব্দে ‘ধ’ বর্ণটি আছে?

(A) হলধর

(B) কথাকলি

7. নীচের কোন সারিতে ছবিতে দেখানো প্রাণীর বর্ণগুলো লুকিয়ে রয়েছে ?

(A) গ ঙ্গ ল

(B) ড়া ল বি



8. নীচের কোনটি রান্নাঘরে ব্যবহার করা হয় ?

(A) কড়াই

(B) কলম

9. নীচের শব্দ দুইটির কোনটি মাছের নাম ?

(A) পটল

(B) চিতল

10. নীচের কোন সারিতে পাশে দেখানো প্রাণীটির নাম লুকিয়ে আছে।

(A) লি শা ক

(B) রি ণ হ



**Language-2**

11. Which of the following is the picture of a 'dog' ?



(A) (1)

(B) (2)



12. Which of the following is the picture of a 'hen' ?



(A) (1)

(B) (2)

13. Which of the following is the letter 'P' ?



(A) (1)

(B) (2)

14. Which of the following is the letter 'D' ?



(A) (1)

(B) (2)

15. Which one of the following is the correct match ?



PARROT

PARROT

(A) (1)

(B) (2)

16. Which one of the following is the correct match ?



CAP

CAP

(A) (1)

(B) (2)


17. Which object in the following pictures begins with the letter 'b' ?



(A) (1)

(B) (2)

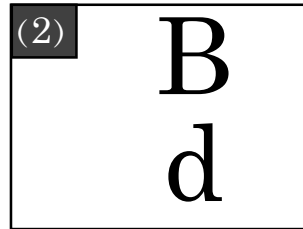
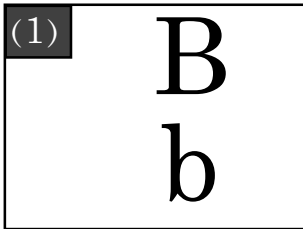
18. Which object in the picture begins with the letter 'p' ?



(A) (1)

(B) (2)

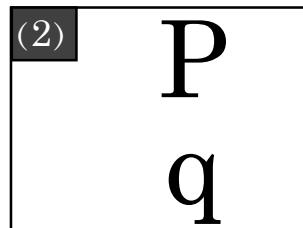
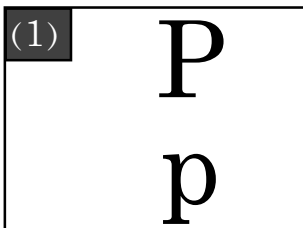
19. Which one of the following is the correct match ?



(A) (1)

(B) (2)

20. Which one of the following is the correct match ?

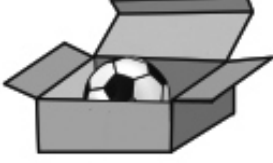


(A) (1)

(B) (2)

## Mathematics

21.



বল ১




বল ২

কোন বলটি বাক্সের ভিতরে আছে?

(ক) বল ১

(খ) বল ২

22.



গোলাকার স্থানে কয়টি পাতা আছে?

(ক) ৩

(খ) ৪

23.



ছবিতে থাকা বোর্ডের আকৃতি কিরূপ?

(ক) চারকোণাকৃতি

(খ) তিনকোণাকৃতি

24. বিক্রির হাতে তিনটি আপেল ছিল। পিতা বিক্রিকে আরও দুইটি আপেল দিল। বিক্রির হাতে মোট কয়টি আপেল আছে?

আপেল ছিল	৩
আপেল দিল	২
মোট	

(ক) ৪

(খ) ৫

প্রথম দিন




গুণোৎসব, প্রথম পর্যায়, ২০২২

Set-A

শ্রেণি : প্রথম

(ভাষা-১, ভাষা-২ এবং গণিত)

মাধ্যম : বাংলা

25.		২
		- ১
		

ছবি দেখে শুদ্ধ বিয়োগফল নির্ণয় কর?

(ক) ১

(খ) ২

26.

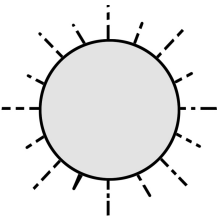
পনেরো	১৫
ষোল	১৬
সতেরো	
আঠারো	১৮

খালি থাকা ঘরটিতে কোন সংখ্যাটি বসবে?

(ক) ১৭

(খ) ১৪

27.



‘সূর্য উদয় হল। আমি বিছানা থেকে উঠলাম।’

তুমি কখন এই কাজটি করিয়াছ?

(ক) সকালে

(খ) বিকালে

প্রথম দিন

গুণোৎসব, প্রথম পর্যায়, ২০২২




Set-A

শ্রেণি : প্রথম

(ভাষা-১, ভাষা-২ এবং গণিত)

মাধ্যম : বাংলা

28.


	৩
+ 	+ ২
	

ছবি দেখে শুদ্ধ যোগফল নির্ণয় কর।


(ক) ৪

(খ) ৫

29.



গ্লাস ১



গ্লাস ২

কোন গ্লাসটির ওজন বেশী হবে?

(ক) গ্লাস ১

(খ) গ্লাস ২

30. দুই দশ নয় =

দশক	একক
	৯

খালি থাকা দশকের স্থানে কী সংখ্যা বসবে?

(ক) ১০

(খ) ২

- o o o -