

তৃতীয় দিন

গুণোৎসৱ, প্ৰথম পৰ্যায় - ২০২২

Set-C

শ্ৰেণী : প্ৰথম

(ভাষা-১, ভাষা-২ আৰু গণিত)

মাধ্যম : অসমীয়া

Name of the Student :

Roll No. : Class :



Name of the School :

শিক্ষকৰ বাবে নিৰ্দেশনাবলী—


- প্ৰশ্ন নম্বৰ 1 ৰ পৰা 30 লৈ ছাত্ৰ-ছাত্ৰীয়ে শুদ্ধ বিকল্পটোত (✓) চিন দিব।
- শিক্ষকে প্ৰশ্নসমূহ ছাত্ৰ-ছাত্ৰীক পঢ়ি শুনাব আৰু শুদ্ধ বিকল্পটোত (✓) চিন দিবলৈ ক'ব। পাছত ছাত্ৰ-ছাত্ৰীয়ে (✓) চিন দিয়া অনুসৰি শিক্ষকে বহিঃমূল্যায়কৰ উপস্থিতিত OMR Sheet ৰ বৃত্তসমূহ গাঢ় কৰি পূৰাব।
- ছাত্ৰ-ছাত্ৰীৰ নাম, ৰোল নং, শ্ৰেণী, বিদ্যালয়ৰ নামৰ তথ্যসমূহ শিক্ষকে পূৰ কৰিব।

Language-1

1. তলত দিয়া কোনটো শিয়ালৰ ছবি ?



2. ছবি দুখনৰ কোনবিধ প্ৰাণীয়ে গাঁতত বাস কৰে ?




3. তলত দিয়া কোনটো আখৰ যোগ কৰিলে শব্দটো সম্পূৰ্ণ হ'ব ?

ক লা

(A) ম

(B) ল



4. 'ঔ' কাৰ যোগ হোৱা শব্দটো বাছি উলিওৱা।

(A) জাকৈ

(B) টকৌ

5. তলত দিয়া কোনটো শব্দত 'উ' আখৰটো আছে?

(A) উষা

(B) উমা

6. তলত দিয়া কোনটো শব্দত 'চ' আখৰটো আছে ?

(A) ওচৰত

(B) ওপৰত

7. তলৰ কোনটো শাৰীত ছবিখনত থকা প্ৰাণীটোৰ নামৰ আখৰবোৰ লুকাই আছে।

(A) য়ু ম ৰ

(B) ৰা কু কু



8. তলত দিয়া কোনটো খেলোতে ব্যৱহাৰ হোৱা সঁজুলি

(A) ফুটবল



(B) কলম

9. তলত দিয়া কোনটো জন্তুৰ নাম?

(A) ঈগল

(B) ভালুক

10. তলত কোনখন ছবিৰ নাম 'হ' আখৰেৰে আৰম্ভ হৈছে?




(A) (1)

(B) (2)

Language-2


11. Which of the following is the picture of a 'bat'?



(A) (1)

(B) (2)


12. Which of the following is the picture of a 'crow'?



(A) (1)

(B) (2)

13. Which of the following is the letter 'E' ?



(A) (1)

(B) (2)

14. Which of the following is the letter 'N' ?




(A) (1)



(B) (2)

15. Which of the following is the correct match ?



BUS

(A) (1)



BUS


(B) (2)

16. Which of the following is the correct match ?



ROSE

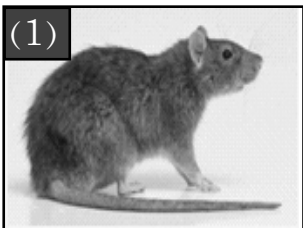
(A) (1)




ROSE

(B) (2)

17. Which object in the following pictures begins with the letter 'r' ?



(A) (1)



(B) (2)

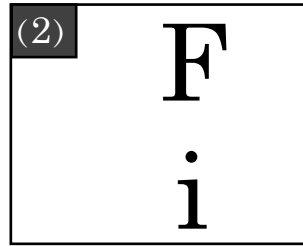
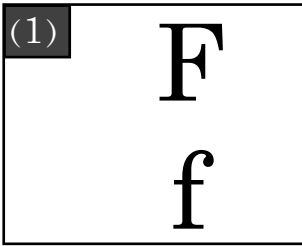
18. Which object in the following pictures begins with the letter 't' ?



(A) (1)

(B) (2)

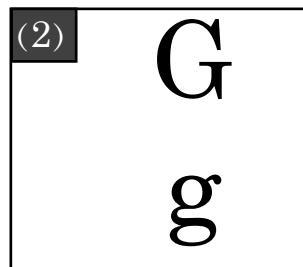
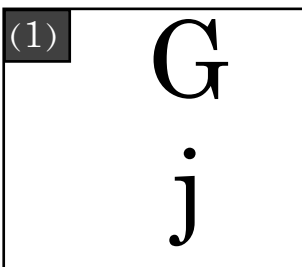
19. Which of the following is the correct match ?



(A) (1)

(B) (2)

20. Which of the following is the correct match ?



(A) (1)

(B) (2)

তৃতীয় দিন

শ্ৰেণী : প্ৰথম

গুণোৎসৱ, প্ৰথম পৰ্যায় - ২০২২


(ভাষা-১, ভাষা-২ আৰু গণিত)

Set-C

মাধ্যম : অসমীয়া

Mathematics

21.



আনাৰস



আম

কোনটো ফল বেছি গধুৰ ?

(ক) আম

(খ) আনাৰস

22.



আমাৰ এখন হাতত থকা আঙুলিৰ সংখ্যা কিমান ?

(ক) ৪

(খ) ৫

23.



ছবিত থকা ঘৰটোৰ দুৱাৰবোৰৰ আকৃতি কেনেকুৱা ?

(ক) চাৰিকোণীয়া

(খ) তিনিকোণীয়া

তৃতীয় দিন

গুণোৎসৱ, প্ৰথম পৰ্যায় - ২০২২

Set-C

শ্ৰেণী : প্ৰথম

(ভাষা-১, ভাষা-২ আৰু গণিত)

মাধ্যম : অসমীয়া

24. বিকিৰ হাতত আছিল ৩ টা আপেল।




দেউতাকে বিকিক আৰু ২ টা আপেল দিলে।

বিকিৰ হাতত এতিয়া মুঠ কেইটা আপেল গোট খালে ?

(ক) ১

(খ) ৫

25.


	২
	- ১
	

ছবি চাই বিয়োগফলটো কিমান হ'ব ?

(ক) ১

(খ) ৩

26.



খালী ফুলপাহত কি সংখ্যা বহিব ?

(ক) ১০

(খ) ১২

27. 'বেলি উদয় হ'ল। মই শোৱাৰ পৰা উঠিলোঁ'

কোন সময়ত তুমি এই কাম কৰিলা ?

(ক) ৰাতিপুৱা

(খ) আবেলি

তৃতীয় দিন

গুণোৎসৱ, প্ৰথম পৰ্যায় - ২০২২




Set-C

শ্ৰেণী : প্ৰথম

(ভাষা-১, ভাষা-২ আৰু গণিত)

মাধ্যম : অসমীয়া

28.

8	
+ 3	+ 
	

ছবি চাই যোগফলটো কি হ'ব?

(ক) ৬

(খ) ৭

29.



নাৰিকল



পাত

ওপৰৰ কোনটো পাতল?

(ক) নাৰিকল

(খ) পাত

30. দুই দহ দুই

=

দহক	একক
২	

খালী থকা এককৰ ঘৰত কি সংখ্যা বহিব?

(ক) ২

(খ) ১০

- o o o -