

দ্বিতীয় দিন

গুণোৎসৱ, প্ৰথম পৰ্যায় - ২০২২

Set-B

শ্ৰেণী : প্ৰথম

(ভাষা-১, ভাষা-২ আৰু গণিত)

মাধ্যম : অসমীয়া

Name of the Student : .....

Roll No. : ..... Class : .....


Name of the School : .....

শিক্ষকৰ বাবে নিৰ্দেশনাবলী—


- প্ৰশ্ন নম্বৰ 1 ৰ পৰা 30 লৈ ছাত্ৰ-ছাত্ৰীয়ে শুদ্ধ বিকল্পটোত (✓) চিন দিব।
- শিক্ষকে প্ৰশ্নসমূহ ছাত্ৰ-ছাত্ৰীক পঢ়ি শুনাৰ আৰু শুদ্ধ বিকল্পটোত (✓) চিন দিবলৈ ক'ব। পাছত ছাত্ৰ-ছাত্ৰীয়ে (✓) চিন দিয়া অনুসৰি শিক্ষকে বহিঃমূল্যায়কৰ উপস্থিতিত OMR Sheet ৰ বৃত্তসমূহ গাঢ় কৰি পূৰাব।
- ছাত্ৰ-ছাত্ৰীৰ নাম, ৰোল নং, শ্ৰেণী, বিদ্যালয়ৰ নামৰ তথ্যসমূহ শিক্ষকে পূৰ কৰিব।

Language-1

1. তলৰ কোনটো শালিকাৰ ছবি ?



2. ছবি দুখনত থকা কোনটো প্ৰাণীয়ে আকাশত উৰিব পাৰে ?



3. তলত দিয়া কোনটো আখৰ যোগ কৰিলে শব্দটো সম্পূৰ্ণ হ'ব ?

ডা    লি   

(A) ম

(B) ল



4. 'ঐ' কাৰ যোগ হোৱা শব্দটো বাছি উলিওৱা।

(A) গৰৈ

(B) চেপা

5. তলত দিয়া কোনটো শব্দত 'ঔ' আখৰটো আছে?

(A) ওলকচু

(B) ঔটেঙা

6. তলত দিয়া কোনটো শব্দত 'ব' আখৰটো আছে

(A) নগৰত

(B) অবাবত

7. তলৰ কোনটো শাৰীত ছবিখনত থকা জন্তুটোৰ নামৰ আখৰবোৰ লুকাই আছে।

(A) বী উ কা

(B) ষি ণ হ



8. তলত দিয়া কোনটো লিখোতে ব্যৱহাৰ হোৱা সঁজুলি

(A) মলম



(B) কলম

9. তলত দিয়া কোনটো চৰাইৰ নাম?

(A) বগলী

(B) পৰুৱা

10. তলৰ কোনখন ছবিৰ নাম 'ব' আখৰেৰে আৰম্ভ হৈছে?




(A) (1)

(B) (2)

**Language-2**

11. Which of the following is the picture of a 'carrot'?



(A) (1)

(B) (2)



12. Which of the following is the picture of a 'horse'?



(A) (1)

(B) (2)

13. Which of the following is the letter 'C' ?



(A) (1)

(B) (2)



14. Which of the following is the letter 'A' ?



(A) (1)

(B) (2)

15. Which one of the following is the correct match ?




APPLE

APPLE

(A) (1)

(B) (2)

16. Which one of the following is the correct match ?



TOMATO

TOMATO

(A) (1)

(B) (2)



17. Which object in the following picture begins with the letter 'm' ?



(A) (1)

(B) (2)

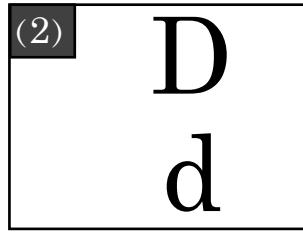
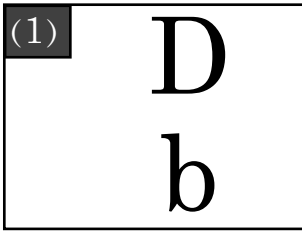
18. Which object in the following pictures begins with the letter 'f' ?



(A) (1)

(B) (2)

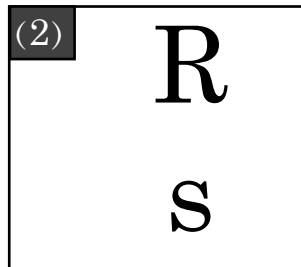
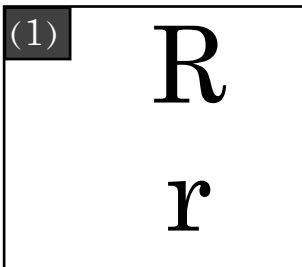
19. Which of the following is correct match ?



(A) (1)

(B) (2)

20. Which of the following is correct match ?



(A) (1)

(B) (2)

**Mathematics**

21.



গছ ১


গছ ২

কোনজোপা গছ ঘৰটোৰ পৰা দূৰত আছে?

(ক) গছ ১

(খ) গছ ২

22.



ওপৰৰ ছবিত কেইটা মাছ আছে?

(ক) ২

(খ) ৩

23.



চাইকেলৰ চকাৰ আকৃতি কেনেকুৱা?

(ক) ঘূৰণীয়া

(খ) তিনিকোণীয়া

24. বিকিৰ হাতত আছিল ৩ টা আপেল।

দেউতাকে বিকিক আৰু ২ টা আপেল দিলে।

বিকিৰ হাতত এতিয়া মুঠ কেইটা আপেল গোট খালে?

(ক) ৩

(খ) ৫

দ্বিতীয় দিন

গুণোৎসৱ, প্ৰথম পৰ্যায় - ২০২২




Set-B

শ্ৰেণী : প্ৰথম

(ভাষা-১, ভাষা-২ আৰু গণিত)

মাধ্যম : অসমীয়া

25.

	৩
	- ১
	

ছবি চাই বিয়োগফল কিমান হ'ব ?

(ক) ২

(খ) ৩

26.

১২	বাৰ
১৩	তেৰ
	চৈধ্য
১৫	পোন্ধৰ

খালী ঘৰটোত কোনটো সংখ্যা বহিব ?

(ক) ১১

(খ) ১৪

27. 'বেলি উদয় হ'ল। মই শোৱাৰ পৰা উঠিলোঁ'

কোন সময়ত তুমি এই কাম কৰিলা ?

(ক) ৰাতিপুৱা

(খ) আবেলি

দ্বিতীয় দিন

গুণোৎসৱ, প্ৰথম পৰ্যায় - ২০২২




Set-B

শ্ৰেণী : প্ৰথম

(ভাষা-১, ভাষা-২ আৰু গণিত)

মাধ্যম : অসমীয়া

28.

 +		৫	
			

ছবি চাই যোগফলটো কি হ'ব?

(ক) ৭

(খ) ৮

29.



পেঞ্চিল ১



পেঞ্চিল ২

কোনডাল পেঞ্চিল বেছি দীঘল?

(ক) পেঞ্চিল ১

(খ) পেঞ্চিল ২

30. তিনি দহ ছয় =

দহক	একক
৩	

খালী থকা ঘৰত কি সংখ্যা বহিব?

(ক) ৬

(খ) ১০

- ০ ০ ০ -