

প্রথম দিন

গুণোৎসৱ, প্রথম পৰ্যায় - ২০২২

Set-A

শ্ৰেণী : প্রথম

(ভাষা-১, ভাষা-২ আৰু গণিত)

মাধ্যম : অসমীয়া

Name of the Student :

Roll No. : Class :


Name of the School :

শিক্ষকৰ বাবে নিৰ্দেশনাবলী—



- প্ৰশ্ন নম্বৰ 1 ৰ পৰা 30 লৈ ছাত্ৰ-ছাত্ৰীয়ে শুদ্ধ বিকল্পটোত (✓) চিন দিব।
- শিক্ষকে প্ৰশ্নসমূহ ছাত্ৰ-ছাত্ৰীক পঢ়ি শুনাব আৰু শুদ্ধ বিকল্পটোত (✓) চিন দিবলৈ ক'ব। পাছত ছাত্ৰ-ছাত্ৰীয়ে (✓) চিন দিয়া অনুসৰি শিক্ষকে বহিঃমূল্যায়কৰ উপস্থিতিত OMR Sheet ৰ বৃত্তসমূহ গাঢ় কৰি পূৰাব।
- ছাত্ৰ-ছাত্ৰীৰ নাম, ৰোল নং, শ্ৰেণী, বিদ্যালয়ৰ নামৰ তথ্যসমূহ শিক্ষকে পূৰ কৰিব।

Language-1

1. তলত দিয়া কোনটো পখিলাৰ ছবি ?



2. ছবিত থকা কোনবিধ প্ৰাণীয়ে পানীত বাস কৰে ?




3. তলত দিয়া কোনটো আখৰ যোগ কৰিলে শব্দটো সম্পূৰ্ণ হ'ব ?

প দু

(A) ম

(B) ল



4. 'ই' কাৰ যোগ হোৱা শব্দটো বাছি উলিওৱা।

(A) দিন

(B) দান

5. তলত দিয়া কোনটো শব্দত 'ঝ' আখৰটো আছে?

(A) বুম্বুৰ

(B) ঋষি

6. তলত দিয়া কোনটো শব্দত 'ধ' আখৰটো আছে

(A) খৰধৰ

(B) পথাৰৰ

7. তলৰ কোনটো শাৰীত ছবিখনত থকা জন্তুটোৰ নামৰ আখৰবোৰ লুকাই আছে।

(A) ল চি নী

(B) ৰী মে কু



8. তলত দিয়া কোনটো পাকঘৰত ব্যৱহাৰ হোৱা সঁজুলি?

(A) কেৰাহী


(B) কলম

9. তলত দিয়া কোনটো মাছৰ নাম?

(A) পটল

(B) চিতল

10. তলৰ কোনখন ছবিৰ নাম 'ড' আখৰেৰে আৰম্ভ হৈছে?



(A) (1)

(B) (2)

Language-2

11. Which of the following is the picture of a 'dog' ?



(A) (1)

(B) (2)

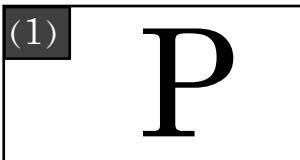
12. Which of the following is the picture of a 'hen' ?



(A) (1)

(B) (2)

13. Which of the following is the letter 'P' ?



(A) (1)

(B) (2)


14. Which of the following is the letter 'D' ?



(A) (1)

(B) (2)

15. Which one of the following is the correct match ?




PARROT

PARROT

(A) (1)

(B) (2)

16. Which one of the following is the correct match ?



CAP

CAP

(A) (1)

(B) (2)


17. Which object in the following pictures begins with the letter 'b' ?



(A) (1)

(B) (2)

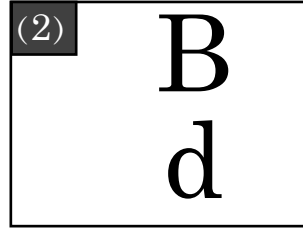
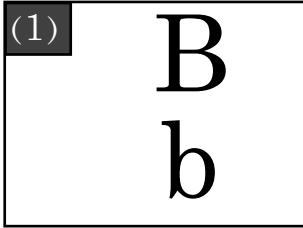
18. Which object in the picture begins with the letter 'p' ?



(A) (1)

(B) (2)

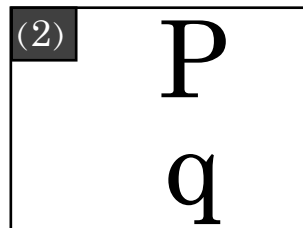
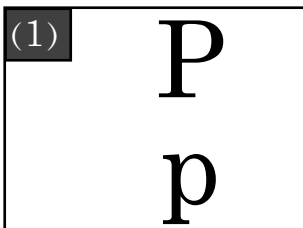
19. Which one of the following is the correct match ?



(A) (1)

(B) (2)

20. Which one of the following is the correct match ?



(A) (1)

(B) (2)

Mathematics



বল ১




বল ২

কোনটো বল বাকচৰ ভিতৰত আছে?

(ক) বল ১

(খ) বল ২



গোল কৰা ঠাইত কিমান খিলা পাত আছে?

(ক) ৩

(খ) ৪

23.



ছবিত থকা বোর্ডৰ আকৃতি কেনেকুৱা?

(ক) চাৰিকোণীয়া

(খ) তিনি কোণীয়া

24. বিকিৰ হাতত আছিল ৩ টা আপেল।

দেউতাই বিকিক আৰু ২ টা আপেল দিলে।

বিকিৰ হাতত এতিয়া মুঠ কেইটা আপেল গোট খালে?

(ক) ৪

(খ) ৫

প্রথম দিন

গুণোৎসৱ, প্ৰথম পৰ্যায় - ২০২২




Set-A

শ্ৰেণী : প্ৰথম

(ভাষা-১, ভাষা-২ আৰু গণিত)

মাধ্যম : অসমীয়া

25.

	২
	- ১
	

ছবি চাই বিয়োগফল কিমান হ'ব ?

(ক) ১

(খ) ২

26.

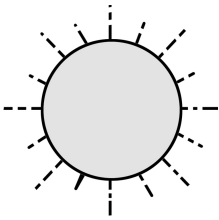
পোন্থৰ	১৫
ষোল্ল	১৬
সোতৰ	
ওঠৰ	১৮

খালী ঘৰটোত কোনটো সংখ্যা বহিব ?

(ক) ১৭

(খ) ১৪

27.



‘বেলি উদয় হ’ল। মই শোৱাৰ পৰা উঠিলোঁ’

কোন সময়ত তুমি এই কাম কৰিলা ?

(ক) ৰাতিপুৱা

(খ) আবেলি

প্রথম দিন




শুণোৎসৱ, প্ৰথম পৰ্যায় - ২০২২

Set-A

শ্ৰেণী : প্ৰথম

(ভাষা-১, ভাষা-২ আৰু গণিত)

মাধ্যম : অসমীয়া


28.		৩
+		+ ২
		

ছবি চাই যোগফলটো কি হ'ব ?


(ক) ৪

(খ) ৫

29.



গিলাচ ১



গিলাচ ২

কোনটো গিলাচ বেছি গধুৰ ?

(ক) গিলাচ ১

(খ) গিলাচ ২

30. দুই দহ ন =

দহক	একক
	৯

খালী থকা দহকৰ ঘৰত কি সংখ্যা বহিব ?

(ক) ১০

(খ) ২

- o o o -